
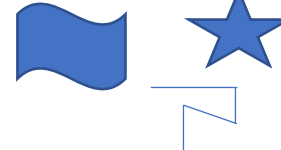







かくたんげん おも かくしゅう 各単元の主な学習テーマ マ/Tema de estudio	たんげんめい しゅぎょうめい 単元名と授業名	Unidad y Clase	かくしゅうないようれい 学習内容例/Ejemplo de contenido	どうが 動画 / Video	きょうかしょ 教科書ページ /Pagina de texto	しどうしょ 指導書ページ /Pagina de guia metodologica	にほん かく 日本での学 習学年/ Año de estudio en Japón
かず こうせい あらわ かの 数の構成と表し方 Composición y representación de números	1. さんすう きそ まな 算数の基礎を学ぼう	Unidad 1. Conozcamos los conceptos básicos matemáticos	-	-	7	19	-
	1.1 いろ くべつ 色で区別しましょう	1.1 Clasifiquemos por su color	-	-	8	22	G1
	1.2 かたち くべつ 形で区別しましょう	1.2 Clasifiquemos por su forma	-	-	10	25	G1
	1.3 つか かた くべつ 使い方で区別しましょう	1.3 Clasifiquemos por su utilidad	-	-	12	28	G1
	2.1 だい しょう みわ 大と小を見分けましょう	2.1 Identifiquemos el grande y el pequeño	-	-	14	31	G1
	2.2 ちゅう ちゅう みわ 中くらいのものを見分けましょう	2.2 Identifiquemos el mediano	-	-	16	34	G1
	2.3 まな 学んだことをやってみましょう	2.3 Practiquemos lo aprendido	-	-	18	37	G1
	2.4 つか よりということばを使ってみましょう	2.4 Utilicemos más y menos	-	-	20	39	G1
	2.5 ほう おお ほう すく の方が多、の方が少ないという言葉を使 てみましょう	2.5 Utilicemos más que y menos que	-	-	22	42	G1
	3.1 いち みわ ものの位置を見分けましょう	3.1 Identifiquemos la posición de lo objetos	-	-	23	44	G1
	3.2 まえ いま あと 前、今、後ということばを使いましょう	3.2 Utilicemos antes, ahora y después	-	-	25	47	G1
	4.1 み パターンを見つつけましょう	4.1 Descubramos patrones	-	-	27	50	G1
	4.2 まな 学んだことをやってみましょう	4.2 Practiquemos lo aprendido	-	-	28	52	G1
	2. 10までの数	Unidad 2. Conozcamos los números hasta 10 y ordinales hasta el 10	-	-	29	57	G1
	1.1 かず りかい 1から3までの数を理解しましょう	1.1 Conozcamos los números del 1 al 3	-	●	30	62	G1
	1.2 かず りかい 4と5の数を理解しましょう	1.2 Conozcamos los números 4 y 5	-	●	31	64	G1
	1.3 かず りかい 6、7、8の数を理解しましょう	1.3 Conozcamos los números 6, 7 y 8	-	●	32	66	G1
	1.4 かず りかい 9と10の数を理解しましょう	1.4 Conozcamos los números 9 y 10	-	●	33	68	G1
	1.5 かず りかい 0の数を理解しましょう	1.5 Conozcamos el número 0	-	●	34	70	G1
	1.6 まな 学んだことをやってみましょう	1.6 Practiquemos lo aprendido	-	-	35	72	G1
	1.7 たの 楽しみましょう	1.7 Divirtámonos	-	-	36	73	G1
	2.1 つく 4を作りましょう	2.1 Formemos el 4	1 y 3, 2 y 2, 3 y 1...	●	38	76	G1
	2.2 つく 5を作りましょう	2.2 Formemos el 5	1 y 4, 2 y 3, 3 y 2...	●	39	78	G1
	2.3 つく 6を作りましょう	2.3 Formemos el 6	1 y 5, 2 y 4, 3 y 3...	●	40	80	G1
	2.4 つく 7を作りましょう	2.4 Formemos el 7	1 y 6, 2 y 5, 3 y 4...	●	41	82	G1
	2.5 つく 8を作りましょう	2.5 Formemos el 8	1 y 7, 2 y 6, 3 y 5...	●	42	84	G1
	2.6 つく 9を作りましょう	2.6 Formemos el 9	1 y 8, 2 y 7, 3 y 6...	●	43	86	G1
	2.7 つく 10を作りましょう	2.7 Formemos el 10	1 y 9, 2 y 8, 3 y 7...	●	45	89	G1
	2.8 まな 学んだことをやってみましょう	2.8 Practiquemos lo aprendido	-	-	47	92	G1

	2.9 学んだことをやってみましょう	2.9 Practiquemos lo aprendido	-	-	48	93	G1
	3.1 小さいものから大きいものの順に並べましょう	3.1 Ordenemos de menor a mayor	0,1,2,3,4,5,6,7,8,9,10	●	49	94	G1
	3.2 大きいものから小さいものの順に並べましょう	3.2 Ordeemos de mayor a menor	10,9,8,7,6,5,4,3,2,1,0	-	50	96	G1
	3.3 順序を表しましょう	3.3 Indiquemos el orden	1,2,3,4,5...	●	51	98	G1
	3.4 右から順番に並べましょう	3.4 Ordenemos desde la derecha	El animal que está en cuarto lugar es la abeja.	●	52	100	G1
	3.5 序数と基数を区別しましょう	3.5 Diferenciamos un número ordinal de un cardinal	1.º 2.º 3.º 4.º 5.º 6.º 7.º 8.º 9.º 10.º	●	54	103	G1
	3.6 学んだことをやってみましょう	3.6 Practiquemos lo aprendido	-	-	56	106	G1
	6. 100までの数	Unidad 6. Conozcamos los números hasta 100	-	-	7	5	G1
	1.1 タイルを理解しましょう	1.1 Conozcamos los azulejos	-	●	8	10	G1
	1.2 50まで10とびで数えましょう	1.2 Contemos de 10 en 10 hasta 50	10,20,30,40,50	●	10	13	G1
	1.3 90まで10とびで数えましょう	1.3 Contemos de 10 en 10 hasta 90	10,20,30...70,80,90	●	12	16	G1
	1.4 学んだことをやってみましょう	1.4 Practiquemos lo aprendido	-	-	14	19	G1
	1.5 21から29までの数を理解しましょう	1.5 Conozcamos los números del 21 al 29	20 y 1、20 y 2...	●	16	21	G1
	1.6 31から39までの数を理解しましょう	1.6 Conozcamos los números del 31 al 39	30 y 1、30 y 2...	●	18	24	G1
	1.7 99まで数えましょう	1.7 Contemos hasta 99	1,2,3...97,98,99	●	20	27	G1
	1.8 学んだことをやってみましょう	1.8 Practiquemos lo aprendido	-	-	22	30	G1
	2.1 99までの数を作りましょう、パート1	2.1 Formemos números hasta 99, parte 1	60 y 2→62	●	24	32	G1
	2.2 99までの数を作りましょう、パート2	2.2 Formemos números hasta 99, parte 2	90 y 9→99	●	26	35	G1
	2.3 一の位と十の位を理解しましょう	2.3 Conozcamos unidades y decenas	38→ Hay 3 decenas y 8	●	28	38	G1
	2.4 一の位と十の位を使いましょう	2.4 Utilicemos unidades y decenas	Hay 4 decenas y 2 unidades.→42	●	30	41	G1
	2.5 学んだことをやってみましょう	2.5 Practiquemos lo aprendido	-	-	32	44	G1
	2.6 数字の100を作りましょう	2.6 Formemos el número 100	1 y 99	●	34	46	G1
	2.7 10のかたまりで数字の100を作りましょう	2.7 Formemos el número 100 con decenas	10 decenas son 100	●	36	49	G1
	2.8 100までの数を読み、書きましょう	2.8 Leamos y escribamos números hasta 100	1, 2...100 Uno,Dos,...Cien	●	37	51	G1
	2.9 数を見つけましょう	2.9 Encontremos los números	-	-	39	54	G1
	2.10 学んだことをやってみましょう	2.10 Practiquemos lo aprendido	-	-	41	57	G1
	3.1 数直線上に50までの数を表しましょう	3.1 Ubiquemos números hasta 50 en la recta numérica	0,1, 2...49,50	-	43	59	G1
	3.2 数直線上に100までの数を表しましょう	3.2 Ubiquemos números hasta 100 en la recta numérica	0,1,2...99,100	●	45	62	G1
	3.3 100までの数を順番に並べましょう	3.3 Ordenemos números hasta 100	1,2,3...99,100	●	47	65	G1
	4.1 より大きいとより小さいを使いましょう	4.1 Utilicemos mayor que y menor que	-	●	49	68	G1
	4.2 学んだことをやってみましょう	4.2 Practiquemos lo aprendido	-	-	51	71	G1
	4.3 2つの数を比べましょう、パート1	4.3 Comparemos 2 números, parte 1	83 y 59、74 y 71	●	53	73	G1
	4.4 2つの数を比べましょう、パート2	4.4 Comparemos 2 números, parte 2	85 y 58	●	55	76	G1
	4.5 学んだことをやってみましょう	4.5 Practiquemos lo aprendido	-	-	57	79	G1
かほう げんぼう 加法、減法	3. 10までの数のたし算とひき算	Unidad 3. Sumemos y restemos de forma horizontal con números hasta 10	-	-	57	109	G1
Suma y resta	1.1 和が5までの、合わせるたし算をしましょう	1.1 Sumemos agrupando con total hasta 5	3+2,3+1...	●	59	114	G1
	1.2 和が9まで、合わせるたし算をしましょう	1.2 Sumemos agrupando con total hasta 9	3+6、2+6...	●	61	117	G1

1.3 学んだことをやってみましょう	1.3 Practiquemos lo aprendido	-	-	62	120	G1
1.4 和が5までの加えるたし算しましょう	1.4 Sumemos agregando con total hasta 5	2+3,4+2	-	63	121	G1
1.5 和が9までの加えるやり方でたし算しましょう	1.5 Sumemos agregando con total hasta 9	2+7,3+6	●	65	124	G1
1.6 楽しみましょう	1.6 Divirtámonos	-	-	67	127	G1
1.7 和を10にしましょう	1.7 Encontremos totales hasta 10	1+9,2+8...9+1	●	68	129	G1
1.8 1つの数にゼロをたしましょう	1.8 Sumemos cero a un número	1+0,2+0...	●	70	132	G1
1.9 学んだことを復習しよう	1.9 Practiquemos lo aprendido	-	●	72	135	G1
2.1 引くひき算、パート1	2.1 Restemos quitando, parte 1	5-3=2, 6-3=3	●	73	136	G1
2.2 引くひき算、パート2	2.2 Restemos quitando, parte 2	8-3=5,10-4=6	-	75	139	G1
2.3 学んだことをやってみましょう	2.3 Practiquemos lo aprendido	-	●	77	142	G1
2.4 分けるひき算しましょう	2.4 Restemos separando	9-6=3,3-2=1	●	78	143	G1
2.5 比べながらひき算しましょう	2.5 Restemos comparando	7-5=2,8-6=2	-	80	146	G1
2.6 学んだことをやってみましょう	2.6 Practiquemos lo aprendido	-	-	82	149	G1
2.7 楽しみましょう	2.7 Divirtámonos	-	●	83	150	G1
2.8 10という数からひき算をしましょう	2.8 Restemos un número a 10	10-5=5,10-7=3	●	84	152	G1
2.9 ゼロを使うひき算	2.9 Restas con cero	3-0=0,7-0=0	-	86	155	G1
2.10 学んだことをやってみましょう	2.10 Divirtámonos	-	●	88	158	G1
2.11 学んだことをやってみましょう	2.11 Practiquemos lo aprendido	-	●	89	160	G1
3.1 3つの数をたし算しましょう	3.1 Sumemos tres números	2+3+5=10	●	91	162	G1
3.2 2回ひき算しましょう	3.2 Restemos dos veces	10-3-4=3	-	93	165	G1
3.3 たし算をひき算をしましょう	3.3 Sumemos y restemos	9+5,12-9	-	95	168	G1
3.4 たし算とひき算をしましょう	3.4 Restemos y sumemos	7+4,13-9	-	97	171	G1
3.5 学んだことをやってみましょう	3.5 Practiquemos lo aprendido	-	-	99	174	G1
3.6 学んだことをやってみましょう	3.6 Practiquemos lo aprendido	-	-	191	176	G1
4. 20までの数	Unidad 4. Conozcamos los números hasta 20	-	-	103	181	G1
1.1 11から15までの数を理解しましょう	1.1 Conozcamos los números del 11 al 15	10 y 1,10 y 2...10 y 5	●	104	185	G1
1.2 16から20までの数を理解しましょう	1.2 Conozcamos los números del 16 al 20	10 y 6,10 y 7...10 y 10	●	106	188	G1
1.3 復習問題	1.3 Practiquemos lo aprendido	-	-	108	191	G1
2.1 11から20までの数を順番に並べましょう	2.1 Ordenemos los números del 11 al 20	11,12,13,...18,19,20	●	109	192	G1
2.2 0から20までの数を並べましょう	2.2 Ordenemos los números del 0 al 20	0,1,2,3...17,18,19,20	●	110	194	G1
2.3 数直線上に数を表しましょう	2.3 Ubiquemos números en la recta numérica	-	●	111	196	G1
2.4 復習問題	2.4 Practiquemos lo aprendido	-	-	112	198	G1
2.5 復習問題	2.5 Practiquemos lo aprendido	-	-	113	199	G1
3.1 2とびで数えましょう	3.1 Contemos de 2 en 2	2,4,6,8,10...	●	114	200	G1
3.2 5とびで数えましょう	3.2 Contemos de 5 en 5	5,10,15,20,25...	●	115	202	G1
3.3 復習問題	3.3 Practiquemos lo aprendido	-	-	116	204	G1
5. 20までの数のたし算とひき算	Unidad 5. Sumemos y restemos de forma horizontal con números hasta 20	-	-	117	213	G1
1.1 学んだことをやってみましょう	1.1 Practiquemos lo aprendido	-	-	118	220	G1
1.2 10にひとつの数をたし算しましょう	1.2 Sumemos un número a 10	10+1,10+2...	●	119	221	G1
1.3 ひとつの数に10をたし算しましょう	1.3 Sumemos 10 a un número	1+10,2+10...	-	121	224	G1
2.1 2桁の数と1桁の数をたし算しましょう	2.1 Sumemos un número de 2 cifras y otro de 1 cifra	24+3,43+2...	●	122	226	G1

2.2 9にひとつの数をたし算しましょう	2.2 Sumemos un número a 9	9+1=10,9+2=11...	●	124	229	G1
2.3 8にひとつの数をたし算しましょう	2.3 Sumemos un número a 8	8+1=9,8+2=10,8+3=11...	●	126	232	G1
2.4 7か6にひとつの数をたし算しましょう	2.4 Sumemos un número a 7 o 6	7+4=11,6+5=11	●	128	235	G1
2.5 学んだことをやってみましょう	2.5 Practiquemos lo aprendido	-	-	130	238	G1
2.6 ひとつの数に9をたし算しましょう	2.6 Sumemos 9 a un número	2+9=11, 5+9=14...	●	131	239	G1
2.7 ひとつの数に8をたし算しましょう	2.7 Sumemos 8 a un número	2+8=11, 5+8=14...	●	133	242	G1
2.8 ひとつの数に7か6をたし算しましょう	2.8 Sumemos 7 o 6 a un número	5+7=12, 5+6=11	●	135	245	G1
2.9 3つの数をたし算しましょう	2.9 Sumemos 3 números	2+3+5=10,6+4+2=12...	-	137	248	G1
2.10 学んだことをやってみましょう	2.10 Practiquemos lo aprendido	-	-	139	251	G1
2.11 足りない数を探しましょう パート1	2.11 Restemos a un número de 2 cifras, parte 1	12-9,13-9...	-	140	252	G1
2.12 足りない数を探しましょう パート2	2.12 Restemos a un número de 2 cifras, parte 2	16-7,11-9...	-	141	254	G1
2.13 たし算カードを使ってパターンを見つけましょう	2.13 Encontramos patrones utilizando tarjetas de suma	-	-	142	256	G1
2.14 楽しみましょう	2.14 Divirtámonos	-	-	144	259	G1
2.15 学んだことをやってみましょう	2.15 Practiquemos lo aprendido	-	-	145	261	G1
3.1 2桁の数をひき算しましょう パート1	3.1 Restemos a un número de 2 cifras, parte 1	12-9,13-9...	●	146	264	G1
3.2 2桁の数をひき算しましょう パート2	3.2 Restemos a un número de 2 cifras, parte 2	16-7,11-9...	●	148	267	G1
3.3 学んだことをやってみましょう	3.3 Practiquemos lo aprendido	-	-	150	270	G1
4.1 20以下の数字から9をひき算しましょう	4.1 Restemos 9 a un número menor que 20	20-9,19-9...	●	151	271	G1
4.2 20以下の数字から8をひき算しましょう	4.2 Restemos 8 a un número menor que 20	20-8,19-8...	●	153	274	G1
4.3 20以下の数字から1桁の数をひき算しましょう	4.3 Restemos un número de 1 cifra a un número menor que 20	18-9,15-7,13-4...	●	155	277	G1
4.4 学んだことをやってみましょう	4.4 Practiquemos lo aprendido	-	-	157	280	G1
4.5 他の方法でひき算しましょう	4.5 Restemos de otra forma	-	●	159	282	G1
4.6 足りない数を探しましょう パート3	4.6 Encontramos el número que falta, parte 3	-	-	160	284	G1
4.7 足りない数を探しましょう パート4	4.7 Encontramos el número que falta, parte 4	-	-	161	286	G1
4.8 ひき算カードを使ってパターンを見つけましょう	4.8 Encontramos patrones utilizando tarjetas de restas	-	●	162	288	G1
4.9 学んだことをやってみましょう	4.9 Practiquemos lo aprendido	-	-	163	290	G1
4.10 学んだことをやってみましょう	4.10 Practiquemos lo aprendido	-	-	164	291	G1
5.1 ひき算を2回しましょう	5.1 Restemos dos veces	10-3-4=3...	●	165	292	G1
5.2 たし算とひき算をしましょう	5.2 Sumemos y restemos	12+3-2=13...	●	166	294	G1
5.3 たし算をひき算をしましょう	5.3 Restemos y sumemos	10-7+2=1...	-	167	296	G1
5.4 学んだことをやってみましょう	5.4 Practiquemos lo aprendido	-	-	168	298	G1
5.5 学んだことをやってみましょう	5.5 Practiquemos lo aprendido	-	-	169	299	G1
7. たし算とひき算のひっ算	Unidad 7. Sumemos y restemos en forma vertical	-	-	59	85	G1
1.1 十の位でたし算をしましょう	1.1 Sumemos decenas	20+10,40+50...	●	60	89	G1
1.2 ある数と一の位の数のたし算をしましょう	1.2 Sumemos unidades a un número	43+2,6+72...	●	62	92	G1
1.3 縦書きでたし算をしましょう	1.3 Sumemos en forma vertical	24+15=39,32+27=59...	●	64	95	G1
1.4 十の位の数と2桁の数のたし算をしましょう	1.4 Sumemos un número de 2 cifras a las decenas	50+23=73...	●	66	98	G1
1.5 位取り表を使ってある数と一の位の数のたし算をしましょう	1.5 Sumemos unidades a un número utilizando tabla de valores	3+24=27...	●	68	101	G1
1.6 学んだことを練習しましょう	1.6 Practiquemos lo aprendido	-	-	70	104	G1

	2.1 十の位の数のひき算をしましょう	2.1 Restemos decenas	30-10=20,80-60=20...	●	72	106	G1
	2.2 縦書き算でひき算をしましょう	2.2 Restemos en forma vertical	35-12=23,59-45=54...	●	74	109	G1
	2.3 学んだことを練習しましょう	2.3 Practiquemos lo aprendido	-	-	76	112	G1
	2.4 同じ一の位の数のひき算をしましょう	2.4 Restemos números con unidades iguales	47-2=45, 99-3=96...	●	78	114	G1
	2.5 同じ十の位の数のひき算をしましょう	2.5 Restemos números con decenas iguales	40-30=10,70-50=20...	●	80	117	G1
	2.6 学んだことを練習しましょう	2.6 Practiquemos lo aprendido	-	-	82	120	G1
	2.7 2桁の数と十の位の数のひき算をしましょう	2.7 Restemos decenas a un número de 2 cifras	34-20=14...	●	83	121	G1
	2.8 2桁の数と一の位の数のひき算をしましょう	2.8 Restemos unidades a un número de 2 cifras	26-5=21...	●	85	124	G1
	2.9 学んだことを練習しましょう	2.9 Practiquemos lo aprendido	-	-	87	127	G1
図形についての理解と基礎 Comprensión y fundamentos de las	8. 線と身の回りのもの	Unidad 8. Conozcamos las líneas y formas en el entorno	-	-	89	137	G1
	1.1 直線、曲線、折れ線、複合線を理解しましょう	1.1 Conozcamos las líneas rectas, curvas, quebradas y mixtas		●	90	140	G1
	1.2 開いた線と閉じた線を理解しましょう	1.2 Conozcamos las líneas abiertas y cerradas		●	92	143	G1
	1.3 縦線、横線、斜め線を理解しましょう	1.3 Conozcamos las líneas verticales, horizontales e inclinadas		●	94	146	G1
	1.4 学んだことをやってみましょう	1.4 Practiquemos lo aprendido	-	-	96	149	G1
	2.1 三角形の形を見分けましょう	2.1 Identifiquemos la forma del triángulo		●	98	151	G1
	2.2 長方形の形を見分けましょう	2.2 Identifiquemos la forma del rectángulo		●	100	154	G1
	2.3 1つの正方形の形を見分けましょう	2.3 Identifiquemos la forma de un cuadrado		●	102	157	G1
	2.4 円の形を見分けましょう	2.4 Identifiquemos la forma del círculo		●	104	160	G1
	2.5 学んだことをやってみましょう	2.5 Practiquemos lo aprendido	-	-	106	163	G1
	2.6 三角形で図形を作りましょう	2.6 Hagamos figuras con formas de triángulo	-	-	108	165	G1
	2.7 三角形の形を見分けましょう	2.7 Formemos figuras con triángulos	-	-	109	167	G1
	9. 図を使ったたし算とひき算	Unidad 9. Sumemos y restemos utilizando la gráfica de círculos	-	-	111	173	G1
	1.1 順序数のたし算をしましょう	1.1 Sumemos número ordinales	Julia va en 4.º lugar en una competencia de carreras. Detrás de ella van 5 niñas. ¿Cuántas niñas están compitiendo?	●	112	176	G1

	1.2 順序数のひき算をしましょう <small>じゆんじゆすう ざん</small>	1.2 Restemos números ordinales	Hay 8 personas comprando entradas para el cine. Antonio está en el 5.º lugar. ¿Cuántas personas hay detrás de Antonio?	●	114	179	G1
	2.1 丸の図を使ってたし算をしましょう <small>まる す つか ざん</small>	2.1 Sumemos utilizando la gráfica de círculos	En el bus van 5 niños sentados. Hay 4 asientos vacíos. ¿Cuántos asientos hay en el bus?	●	116	182	G1
	2.2 丸の図を使ってひき算をしましょう <small>まる す つか ざん</small>	2.2 Restemos utilizando la gráfica de círculos	Hay 9 juguetes. Llegan 6 niños a jugar. Cada uno toma un juguete. ¿Cuántos juguetes sobran?	●	118	185	G1
	2.3 学んだことを練習しましょう <small>まな れんしゆう</small>	2.3 Practiquemos lo aprendido	-	-	120	188	G1
	2.4 「～より多い」を使ってたし算をしましょう その1 <small>おお つか ざん</small>	2.4 Sumemos utilizando “más que”, parte 1	Carlos tiene 5 dulces, y tiene 2 chocolates más que dulces. ¿Cuántos chocolates tiene Carlos?	●	122	190	G1
	2.5 「～より多い」を使ってたし算をしましょう その2 <small>おお つか ざん</small>	2.5 Sumemos utilizando “más que”, parte 2	Ana tiene 3 chibolas. José tiene 4 chibolas más que Ana. ¿Cuántas chibolas tienen entre los dos?	●	124	193	G1
	2.6 「～より少ない」を使ってひき算をしましょう その1 <small>すく つか ざん</small>	2.6 Restemos utilizando “menos que”, parte 1	Marta tiene 9 lápices. Ella tiene 3 sacapuntas menos que lápices. ¿Cuántas sacapuntas tiene Marta?	●	126	196	G1
	2.7 「～より少ない」を使ってひき算をしましょう その2 <small>すく つか ざん</small>	2.7 Restemos utilizando “menos que”, parte 2	Antonio tiene 8 conejos. Ana tiene 6 conejos menos que Antonio. ¿Cuántos conejos tienen entre los dos?	●	128	199	G1
	2.8 隠れた数字を足しましょう その1 <small>かく すうじ た</small>	2.8 Sumemos con un número escondido, parte 1	En una fila, hay 4 niños delante de José y detrás hay 3. ¿Cuántos niños hay en la fila?	●	130	202	G1
	2.9 隠れた数字を足しましょう その2 <small>かく すうじ た</small>	2.9 Sumemos con un número escondido, parte 2	Ana y Julia están una detrás de la otra haciendo fila para comprar una paleta. Delante de ellas hay 5 personas y detrás hay 3; ¿cuántas personas están en la fila?	-	132	205	G1
	2.10 学んだことを練習しましょう <small>まな れんしゆう</small>	2.10 Practiquemos lo aprendido	-	-	134	208	G1
	2.11 学んだことを練習しましょう <small>まな れんしゆう</small>	2.11 Practiquemos lo aprendido	-	-	136	210	G1
りよう そくてい ・量や測定についての理 い きそ 解と基礎	10. 算数を使ってみよう <small>さんすう つか</small>	Unidad 10. Apliquemos la Matemática	-	-	139	217	G1

Comprensión y fundamentos de las magnitudes y medidas	1.1 物の直接比較をしましょう <small>もの ちよくせつひかく</small>	1.1 Comparemos objetos directamente	Compara tu regla o lápiz con la regla o lápiz de un copañero.		140	221	G1
	1.2 物の間接比較をしましょう <small>もの かんせつひかく</small>	1.2 Comparemos objetos indirectamente			142	224	G1
	1.3 体の部位や何か他の物を使って測りましょう <small>からだ ぶ い なに ほか もの つか はか</small>	1.3 Midamos utilizando partes del cuerpo y otros objetos	-	-	143	226	G1
	1.4 2つの広さを比べましょう <small>ひろ くら</small>	1.4 Comparemos 2 superficies	Julia tiene dos toallas. ¿Cuál es la toalla más grande?		144	228	G1
	2.1 容器2つのかさを比べましょう(1) <small>ようき くら</small>	2.1 Comparemos la capacidad de 2 recipientes, parte 1	¿Cuál tiene más capacidad?		145	230	G1
	2.2 容器2つのかさを比べましょう(2) <small>ようき くら</small>	2.2 Comparemos la capacidad de 2 recipientes, parte 2	¿Cuál recipiente tiene más capacidad?	-	147	233	G1
	2.3 箱を比べましょう <small>はこ くら</small>	2.3 Comparemos cajas	¿Cuál caja es grande?		148	235	G1
	3.1 2つの物の重さを比べましょう <small>もの おも くら</small>	3.1 Comparemos el peso de 2 objetos	¿Cuál pelota pesa más?		150	238	G1
	4.1 硬貨を区別しましょう <small>こうか くべつ</small>	4.1 Identifiquemos las monedas	-	-	151	240	G1
	4.2 1、5、10、25セントで金額を数えましょう <small>きんかく かぞ</small>	4.2 Formemos cantidades con monedas de 1,5,10 y 25 centavos	-		152	242	G1
	4.3 1、5、10、25セントと1ドルで金額を集めましょう <small>きんかく あつ</small>	4.3 Formemos cantidades con monedas de 1,5,10,25 centavos y 1 dólar	-	-	155	246	G1
	5.1 時計を見て、○時間ちょうどの読み取り方を学びましょう <small>とけい み じかん よ と かた まな</small>	5.1 Conozcamos el reloj y la hora en punto	2 en punto		158	250	G1
	5.2 ○時半の読み取り方を学びましょう <small>じはん よ と かた まな</small>	5.2 Conozcamos y leamos la hora y media	6 y media		160	253	G1
	5.3 分の読み取り方を学びましょう <small>ぶん よ と かた まな</small>	5.3 Conozcamos los minutos	5 y 52 minutos		162	256	G1
5.4 いろいろな時間を読み取りましょう <small>じかん よ と</small>	5.4 Leamos la hora de diferentes formas	-	-	164	259	G1	
Representación de cantidades mediante imágenes y diagramas	11. 既習事項の応用 <small>きしゅうじこう おうよう</small>	Unidad 11. Apliquemos lo aprendido	-	-	165	265	G1
	1.1 数えましょう <small>かぞ</small>	1.1 Contemos	-		166	269	G1
	1.2 2とびで数えましょう <small>かぞ</small>	1.2 Contemos de 2 en 2	-		168	272	G1
	1.3 5とびで数えましょう <small>かぞ</small>	1.3 Contemos de 5 en 5	-		170	275	G1
	1.4 10とびで数えましょう <small>かぞ</small>	1.4 Contemos de 10 en 10	-		172	278	G1
	1.5 学んだことをやってみましょう <small>まな</small>	1.5 Practiquemos lo aprendido	-	-	174	281	G1
	1.6 6とびと7とびで数えましょう <small>かぞ</small>	1.6 Contemos de 6 en 6 y de 7 en 7	-		176	283	G1
	1.7 8とびと9とびで数えましょう <small>かぞ</small>	1.7 Contemos de 8 en 8 y de 9 en 9	-	-	177	285	G1
	1.8 学んだことをやってみましょう <small>まな</small>	1.8 Practiquemos lo aprendido	-	-	178	287	G1
	2.1 2を何回も足しましょう <small>なんかい た</small>	2.1 Sumemos el 2 varias veces	-		180	289	G1
	2.2 5を何回も足しましょう <small>なんかい た</small>	2.2 Sumemos el 5 varias veces	-		182	292	G1
	2.3 10を何回も足しましょう <small>なんかい た</small>	2.3 Sumemos el 10 varias veces	-		183	294	G1
	2.4 3または4を何回も足しましょう <small>なんかい た</small>	2.4 Sumemos el 3 o 4 varias veces	-		184	296	G1
	2.5 6または7を何回も足しましょう <small>なんかい た</small>	2.5 Sumemos el 6 o 7 varias veces	-		185	298	G1
2.6 8または9を何回も足しましょう <small>なんかい た</small>	2.6 Sumemos el 8 o 9 varias veces	-		186	300	G1	

2.7 <small>まな</small> 学んだことをやってみましょう	2.7 Practiquemos lo aprendido	-	-	187	302	G1
3.1 <small>たてが</small> <small>ざん</small> 縦書きでたし算をしましょう	3.1 Sumemos	-	-	189	304	G1
3.2 <small>たてが</small> <small>ざん</small> 縦書きでひき算をしましょう	3.2 Restemos	-	-	191	307	G1
3.3 <small>ざん</small> <small>ざん</small> たし算とひき算をしましょう	3.3 Sumemos y restemos	-	-	193	210	G1
3.4 <small>ざん</small> ピラミッドでたし算をしましょう	3.4 Sumemos con la pirámide	-	-	194	310	G1
3.5 <small>か</small> <small>すうじ</small> <small>か</small> 欠けている数字を書きましょう	3.5 Escribamos el número que falta	-	-	196	312	G1
3.6 <small>もんだい</small> <small>と</small> 問題を解きましょう	3.6 Resolvamos problemas	-	-	198	315	G1
3.7 <small>まな</small> 学んだことをやってみましょう	3.7 Practiquemos lo aprendido	-	-	199	318	G1
3.8 <small>まな</small> 学んだことをやってみましょう	3.8 Practiquemos lo aprendido	-	-	201	320	G1
3.9 <small>まな</small> 学んだことをやってみましょう	3.9 Practiquemos lo aprendido	-	-	203	322	G1