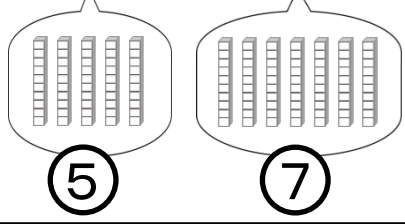


0が1つある数のたし算をしよう。それぞれ、10の束がいくつあるかな。



$$50 + 70$$



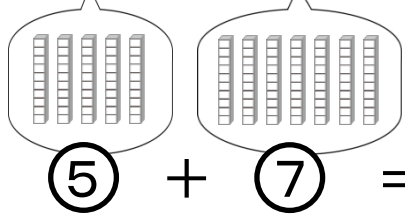
50は10の束が5個、
70は10の束が7個だ。



10の束の数をたすと、いくつになるかな。



$$50 + 70$$



$$\textcircled{5} + \textcircled{7} = \boxed{12}$$

10の束でみると、
12個なんだね。

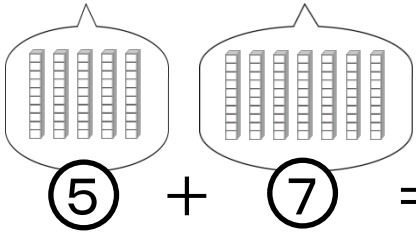


10の束

10の束が何個かと考えると、計算がかたんになるね。



$$50 + 70 = \boxed{120}$$



$$\textcircled{5} + \textcircled{7} = \boxed{12}$$

5 + 7は、
50 + 70の0
をとった計算と
同じね。

Bien!



10の束

例題 にあてはまる数を書きましょう。

$$50 + 70 = 120$$

10の束が 5 + 7



Bien!

問題 にあてはまる数を書きましょう。

① $80 + 40 =$

10の束が 8 + 4

② $40 + 60 =$

10の束が 4 + 6

③ $50 + 90 =$

10の束が 5 + 9

④ $60 + 60 =$

10の束が 6 + 6

⑤ $60 + 80 =$

10の束が 6 + 8

⑥ $90 + 60 =$

10の束が 9 + 6

⑦ $70 + 40 =$

10の束が 7 + 4

⑧ $70 + 70 =$

10の束が 7 + 7

⑨ $90 + 20 =$

10の束が 9 + 2

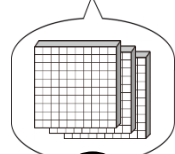
⑩ $80 + 50 =$

10の束が 8 + 5

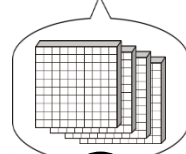
0が2つある数のたし算をしよう。100の束はいくつあるかな。



$$300 + 400$$



③



④

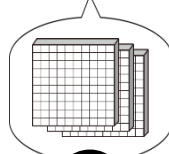
300は100の束が3個、
400は100の束が4個だ。



100の束の数をたすと、いくつになるかな。

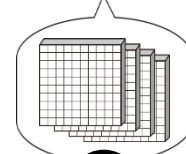


$$300 + 400$$



③

+



④

=

7

100の束でみると
7個なんだね。

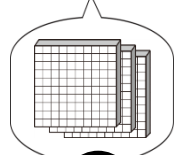


100の束

100の束が何個かと考えると、計算がかたんになるね。

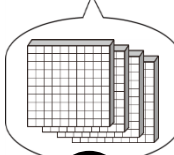


$$300 + 400 = 700$$



③

+



④

=

7

3 + 4は、
300 + 400の0を
とった計算と同じね。



Bien!



100の束

例題 にあてはまる数を書きましょう。

$$300 + 400 = \boxed{700}$$

100の束が 3 + 4



Bien!

問題 にあてはまる数を書きましょう。

① $400 + 200 =$

100の束が 4 + 2

② $500 + 300 =$

100の束が 5 + 3

③ $100 + 500 =$

100の束が 1 + 5

④ $500 + 500 =$

100の束が 5 + 5

⑤ $800 + 200 =$

100の束が 8 + 2

⑥ $700 + 100 =$

100の束が 7 + 1

⑦ $600 + 200 =$

100の束が 6 + 2

⑧ $900 + 100 =$

100の束が 9 + 1

⑨ $300 + 500 =$

100の束が 3 + 5

⑩ $400 + 300 =$

100の束が 4 + 3

例題 にあてはまる数を書きましょう。

$$50 + 70 = 120$$



Bien!

問題 にあてはまる数を書きましょう。

① $50 + 80 =$

② $30 + 70 =$

③ $60 + 50 =$

④ $70 + 70 =$

⑤ $40 + 70 =$

⑥ $60 + 80 =$

⑦ $90 + 60 =$

⑧ $40 + 80 =$

⑨ $200 + 600 =$

⑩ $300 + 500 =$

⑪ $400 + 200 =$

⑫ $600 + 100 =$

⑬ $500 + 500 =$

⑭ $200 + 400 =$

⑮ $700 + 200 =$

⑯ $300 + 300 =$