

d の数のたし算が、9より大きくなる計算をしよう。u の数をはじめにたすよ。2 + 3で5だね。d のたし算はいくつになるかな。

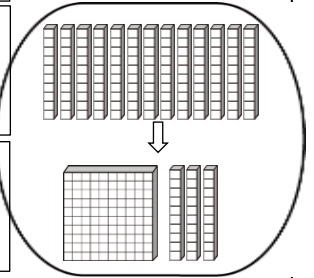
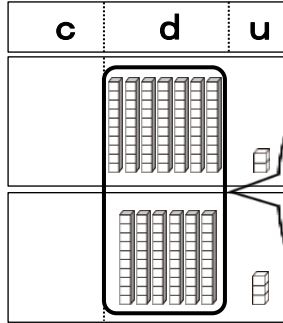


$$72 + 63$$

7 + 6 = 13
になるね。



c	d	u
	7	2
+	6	3

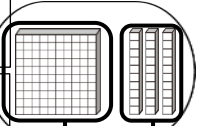
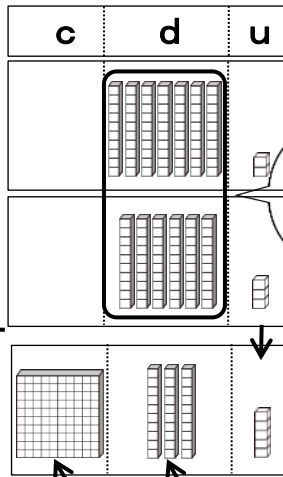


d の13は10が13個で130だね。そのうちの100をcに移すよ。



$$72 + 63$$

c	d	u
	7	2
+	6	3



u は2 + 3で5,
d は13の3。
答えは、135ね。



縦に書いて計算しよう。

$$72 + 63$$

c	d	u
---	---	---

	7	2
+	6	3
-----		5

$2 + 3 = 5$

u の数をたすと、
 $2 + 3 = 5$
になるね。



d の数を計算しよう。

$$72 + 63$$

c	d	u
---	---	---

	7	2
+	6	3
-----		5
1	3	5

$7 + 6 = 13$

$2 + 3 = 5$

d の数をたすと、
 $7 + 6 = 13$
になるね。



13の1はcの答えの
ところに書くんだね。



例題 次の計算をしましょう。

$$72 + 63$$

	7	2
+	6	3



$$72 + 63$$

	7	2
+	6	3
1	3	5



Bien!

問題 次の計算をしましょう。

① $85 + 54$

	8	5
+	5	4

② $62 + 83$

	6	2
+	8	3

③ $84 + 71$

	8	4
+	7	1

④ $12 + 95$

	1	2
+	9	5

⑤ $53 + 72$

	5	3
+	7	2

⑥ $94 + 35$

	9	4
+	3	5

⑦ $51 + 81$

	5	1
+	8	1

⑧ $97 + 40$

	9	7
+	4	0

問題 次の計算をしましょう。

⑨ $73 + 95$

7	3
+	95

⑩ $53 + 63$

5	3
+	63

⑪ $91 + 65$

9	1
+	65

⑫ $75 + 41$

7	5
+	41

⑬ $86 + 31$

8	6
+	31

⑭ $76 + 42$

7	6
+	42

⑮ $24 + 84$

2	4
+	84

⑯ $92 + 73$

9	2
+	73

⑰ $37 + 82$

3	7
+	82

⑱ $36 + 92$

3	6
+	92

⑲ $82 + 86$

8	2
+	86

⑳ $73 + 52$

7	3
+	52

㉑ $33 + 95$

3	3
+	95

㉒ $95 + 23$

9	5
+	23

㉓ $63 + 75$

6	3
+	75

㉔ $34 + 72$

3	4
+	72

例題 次の計算をしましょう。「+」も書きましょう。

$$72 + 63$$

c	d	u

c	d	u
+		



$$72 + 63$$

c	d	u

c	d	u
	7	2
+	6	3
1	3	5



Bien!

わすれ
ないで
!

問題 次の計算をしましょう。「+」も書きましょう。

① $35 + 94$

c	d	u
+		

② $74 + 91$

c	d	u
+		

③ $42 + 75$

c	d	u
+		

④ $81 + 22$

c	d	u
+		

⑤ $77 + 60$

c	d	u
+		

⑥ $95 + 52$

c	d	u
+		

問題 次の計算をしましょう。「+」も書きましょう。

⑦ $37 + 71$

c	d	u
+		

⑧ $55 + 81$

c	d	u
+		

⑨ $60 + 63$

c	d	u
+		

⑩ $64 + 41$

c	d	u
+		

⑪ $76 + 32$

c	d	u
+		

⑫ $25 + 92$

c	d	u
+		

⑬ $81 + 58$

c	d	u
+		

⑭ $93 + 55$

c	d	u
+		

⑮ $70 + 89$

c	d	u
+		

例題 次の計算をしましょう。「+」や線も書きましょう。

$$72 + 63$$

c	d	u
---	---	---



わすれ
ないで
!

$$72 + 63$$

c	d	u
---	---	---

	7	2
+	6	3
1	3	5



Bien!

問題 次の計算をしましょう。「+」や線も書きましょう。

① $82 + 63$

c	d	u
---	---	---

② $49 + 80$

c	d	u
---	---	---

③ $54 + 85$

c	d	u
---	---	---

④ $36 + 82$

c	d	u
---	---	---

⑤ $92 + 37$

c	d	u
---	---	---

⑥ $83 + 44$

c	d	u
---	---	---

問題 次の計算をしましょう。「+」や線も書きましょう。

⑦ $84 + 35$

c	d	u

⑧ $67 + 41$

c	d	u

⑨ $92 + 17$

c	d	u

⑩ $53 + 54$

c	d	u

⑪ $34 + 70$

c	d	u

⑫ $82 + 54$

c	d	u

⑬ $91 + 27$

c	d	u

⑭ $62 + 55$

c	d	u

⑮ $28 + 90$

c	d	u