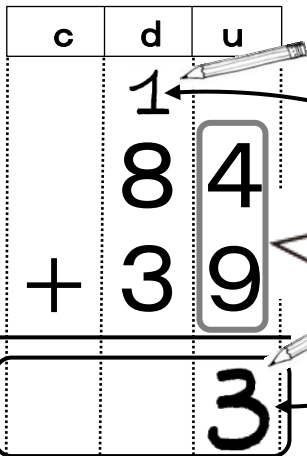





次の計算をしよう。

$$84 + 39$$



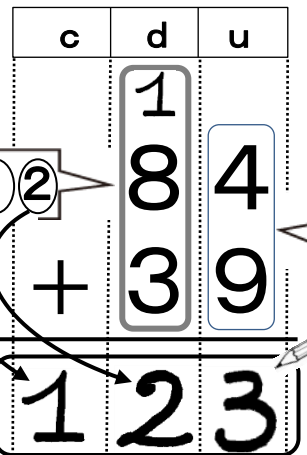
13の1は、上に小さく書いて、13の3はuの答えのところに書くんだね。

$$4 + 9 = 13$$



dの数を計算しよう。

$$84 + 39$$



12の1は、cの答えのところに、12の2は、dの答えのところに書くんだね。

$$1 + 8 + 3 = 12$$

$$4 + 9 = 13$$



例題 次の計算をしましょう。

$$84 + 39$$

	8	4
+	3	9



$$84 + 39$$

	1	
	8	4
+	3	9
	1	23



Bien!

問題 次の計算をしましょう。

① $79 + 54$

	7	9
+	5	4

② $86 + 76$

	8	6
+	7	6

③ $25 + 98$

	2	5
+	9	8

④ $95 + 69$

	9	5
+	6	9

⑤ $37 + 95$

	3	7
+	9	5

⑥ $86 + 57$

	8	6
+	5	7

⑦ $88 + 53$

	8	8
+	5	3

⑧ $97 + 69$

	9	7
+	6	9

問題 次の計算をしましょう。

⑨ $69 + 87$

	6	9	
+	8	7	
<hr/>			

⑩ $76 + 54$

	7	6	
+	5	4	
<hr/>			

⑪ $27 + 94$

	2	7	
+	9	4	
<hr/>			

⑫ $46 + 96$

	4	6	
+	9	6	
<hr/>			

⑬ $98 + 42$

	9	8	
+	4	2	
<hr/>			

⑭ $69 + 78$

	6	9	
+	7	8	
<hr/>			

⑮ $76 + 85$

	7	6	
+	8	5	
<hr/>			

⑯ $39 + 85$

	3	9	
+	8	5	
<hr/>			

⑰ $67 + 64$

	6	7	
+	6	4	
<hr/>			

⑱ $87 + 94$

	8	7	
+	9	4	
<hr/>			

⑲ $68 + 79$

	6	8	
+	7	9	
<hr/>			

⑳ $58 + 98$

	5	8	
+	9	8	
<hr/>			

例題 次の計算をしましょう。「+」も書きましょう。

$$84 + 39$$

c	d	u
---	---	---

+		

$$84 + 39$$

c	d	u
---	---	---

+	1 8 3 1	4 9 2 3



わすれ
ないで
!



Bien!

問題 次の計算をしましょう。「+」も書きましょう。

① $56 + 89$

c	d	u
---	---	---

+		

② $67 + 85$

c	d	u
---	---	---

+		

③ $38 + 98$

c	d	u
---	---	---

+		

④ $48 + 75$

c	d	u
---	---	---

+		

⑤ $94 + 77$

c	d	u
---	---	---

+		

⑥ $52 + 79$

c	d	u
---	---	---

+		

問題 次の計算をしましょう。「+」も書きましょう。

⑦ $16 + 97$

c	d	u
+		

⑧ $46 + 98$

c	d	u
+		

⑨ $46 + 84$

c	d	u
+		

⑩ $61 + 59$

c	d	u
+		

⑪ $78 + 35$

c	d	u
+		

⑫ $85 + 47$

c	d	u
+		

⑬ $34 + 98$

c	d	u
+		

⑭ $77 + 55$

c	d	u
+		

⑮ $59 + 63$

c	d	u
+		

例題 次の計算をしましょう。「+」や線も書きましょう。

$$84 + 39$$

c	d	u
---	---	---

$$84 + 39$$

c	d	u
---	---	---

	1	
	8	4
+	3	9
1	2	3



わすれ
ないで
!



Bien!

問題 次の計算をしましょう。「+」や線も書きましょう。

① $47 + 75$

c	d	u
---	---	---

② $37 + 86$

c	d	u
---	---	---

③ $75 + 68$

c	d	u
---	---	---

④ $28 + 95$

c	d	u
---	---	---

⑤ $66 + 84$

c	d	u
---	---	---

⑥ $63 + 59$

c	d	u
---	---	---

問題 次の計算をしましょう。「+」や線も書きましょう。

⑦ $84 + 38$

c	d	u

⑧ $87 + 48$

c	d	u

⑨ $34 + 87$

c	d	u

⑩ $73 + 59$

c	d	u

⑪ $34 + 97$

c	d	u

⑫ $68 + 54$

c	d	u

⑬ $47 + 77$

c	d	u

⑭ $68 + 67$

c	d	u

⑮ $77 + 36$

c	d	u