

إذا إصطفت، يمكن بسهولة معرفة أيهما الأكثر ولكن ...




هل تعرف أيهما الأكثر بهذه الصورة الوعاء أم الغطاء؟




دعونا نحاول ربط كل وعاء بكل غطاء بخط. على أن يكون الأوعية والأغطية الذي تم توصيلهم بخط لهم نفس العدد.

أه! هناك غطاء واحد متبقي. يعني ذلك أن الأغطية هي الأكثر عدداً. إذا قمت بذلك، سوف تعرف على الفور.

جيد!

مثال دعونا نرسم  حول الأكثر عدداً.

يمكنك معرفة أيهما الأكثر، إذا قمت بإقران كل وعاء بكل غطاء من خلال رسم خط.

جيد!

أكثر عدداً

أكثر عدداً

سؤال دعونا نرسم  حول الأكثر عدداً.

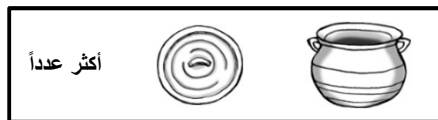
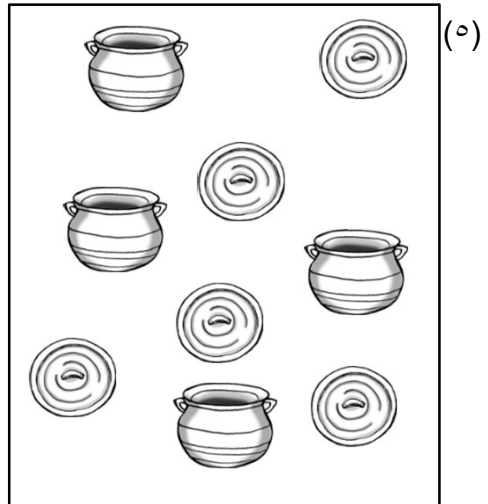
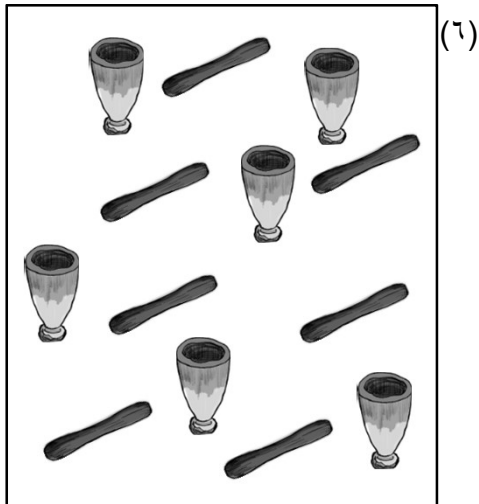


(٢)

أكثر عدداً

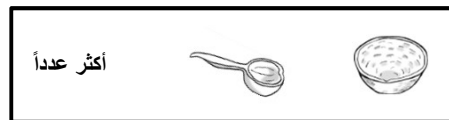

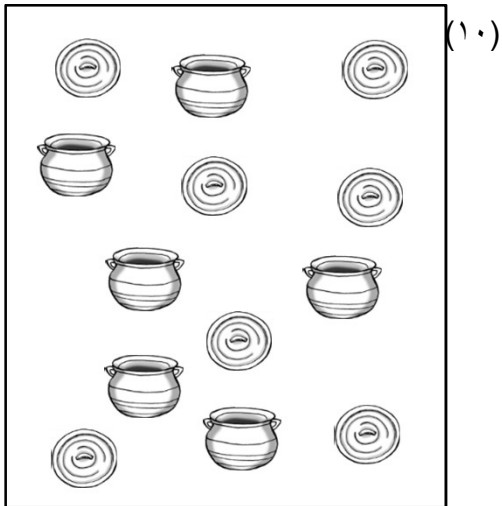


(١)

أكثر عدداً

السؤال دعونا نرسم  حول الأكثر عدداً.



السؤال دعونا نرسم  حول الأكثر عدداً.



T.٣\_S.٢

السؤال دعونا نرسم  حول الأكثر عدداً.

