

مثال دعونا نكتب العدد المُنتطبق داخل

يُمكن تقسيم ١١ إلى ١٠ وماذا؟

دعونا نكتب العدد المُنتطبق داخل

السؤال دعونا نكتب العدد المُنتطبق داخل

(١)

(٢)

(٣)

(٤)

(٥)

(٦)

السؤال دعونا نكتب العدد المُنتطبق داخل

(٩)

(٨)

(٧)



(١١)

(١٠)

(١٤)

(١٣)

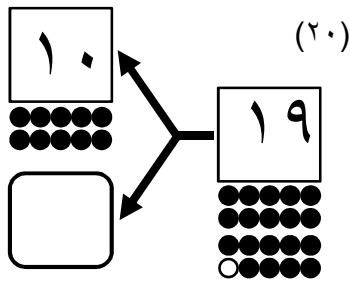
(١٢)

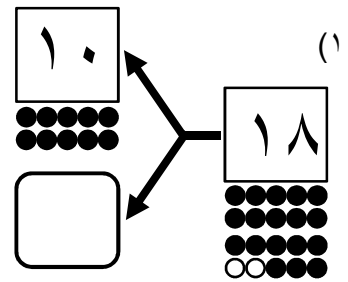
(١٧)

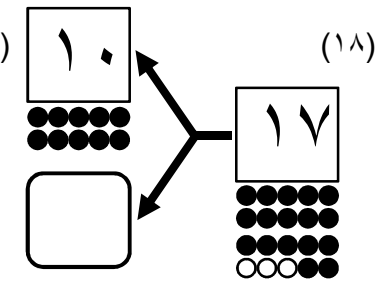
(١٦)

(١٥)

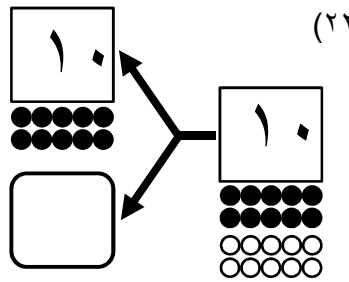
السؤال دعونا نكتب العدد المُنتطبق داخل

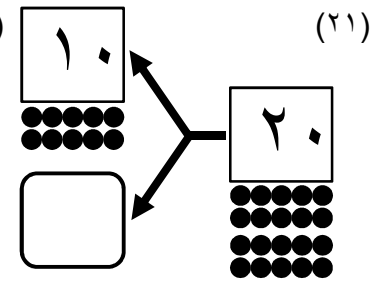
(٢٠) 

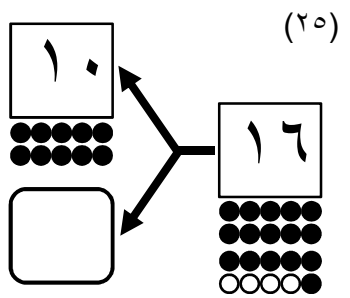
(١٩) 

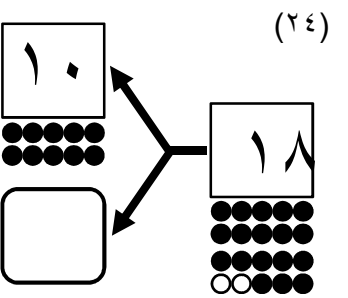
(١٨) 



(٢٢) 

(٢١) 

(٢٥) 

(٢٤) 

(٢٣) 