

دعونا نحسب التالي.

سوف نكتب الرقم ١ للعدد ١٣ بخط صغير في أعلاه، ونكتب الرقم ٣ للعدد ١٣ في خانة إجابة u.

١٣ = ٩ + ٤

٣٩ + ٨٤

c	d	u
	١	٤
	٨	٩
	٣	

٣

دعونا نحسب أعداد خانة d

سوف نكتب العدد ١ للعدد ١٢ في خانة إجابة c ، ونكتب الرقم ٢ للعدد ١٢ بخانة إجابة d .

١٢ = ٩ + ٤

٣٩ + ٨٤

c	d	u
١	٨	٤
	٣	٩

١ ٢ ٣

جيدا!

مثال دعونا نجري العمليات الحسابية التالية.

٣٩ + ٨٤

١		
٨	٤	
٣	٩	
١	٢	٣

جيدا!

←

٣٩ + ٨٤

٨	٤	
٣	٩	

السؤال دعونا نجري العمليات الحسابية التالية.

٦٩ + ٩٥ (٤)

٩	٥	
٦	٩	+

٩٨ + ٢٥ (٣)

٢	٥	
٩	٨	+

٧٦ + ٨٦ (٢)

٨	٦	
٧	٦	+

٥٤ + ٧٩ (١)

٧	٩	
٥	٤	+

٦٩ + ٩٧ (٨)

٩	٧	
٦	٩	+

٥٣ + ٨٨ (٧)

٨	٨	
٥	٣	+

٥٧ + ٨٦ (٦)

٨	٦	
٥	٧	+

٩٥ + ٣٧ (٥)

٣	٧	
٩	٥	+

السؤال دعونا نجرى العمليات الحسابية التالية.

$96 + 46 \quad (12)$

٤	٦	
٩	٦	+
<hr/>		

$94 + 27 \quad (11)$

٢	٧	
٩	٤	+
<hr/>		

$04 + 76 \quad (10)$

٧	٦	
٠	٤	+
<hr/>		

$87 + 69 \quad (9)$

٦	٩	
٨	٧	+
<hr/>		

$80 + 39 \quad (16)$

٣	٩	
٨	٠	+
<hr/>		

$80 + 76 \quad (15)$

٧	٦	
٨	٠	+
<hr/>		

$78 + 69 \quad (14)$

٦	٩	
٧	٨	+
<hr/>		

$42 + 98 \quad (13)$

٩	٨	
٤	٢	+
<hr/>		

$98 + 08 \quad (20)$

٠	٨	
٩	٨	+
<hr/>		

$79 + 68 \quad (19)$

٦	٨	
٧	٩	+
<hr/>		


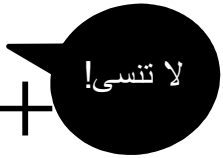

$94 + 87 \quad (18)$

٨	٧	
٩	٤	+
<hr/>		

$64 + 67 \quad (17)$

٦	٧	
٦	٤	+
<hr/>		

مثال دعونا نجري العمليات الحسابية التالية مع كتابة علامة صيغة الجمع (+).

٣٩ + ٨٤	٣٩ + ٨٤	٣٩ + ٨٤												
c d u	c d u	c d u												
 جيدا!	 لا تنسى!													
<table border="1" style="border-collapse: collapse; width: 100%;"> <tr><td style="width: 33%; height: 20px;"> </td><td style="width: 33%;"> </td><td style="width: 33%;"> </td></tr> <tr><td style="text-align: center;">١</td><td style="text-align: center;">٨</td><td style="text-align: center;">٤</td></tr> <tr><td style="text-align: center;">٣</td><td style="text-align: center;">٩</td><td style="text-align: center;"> </td></tr> <tr><td style="text-align: center;">١</td><td style="text-align: center;">٢</td><td style="text-align: center;">٣</td></tr> </table>				١	٨	٤	٣	٩		١	٢	٣	+	+
١	٨	٤												
٣	٩													
١	٢	٣												

السؤال دعونا نجري العمليات الحسابية التالية مع كتابة علامة صيغة الجمع (+).

$٩٨ + ٣٨ (٣)$

$٨٥ + ٦٧ (٢)$

$٨٩ + ٥٦ (١)$

c d u	c d u	c d u

+

c d u	c d u	c d u

+

c d u	c d u	c d u

+

$٧٩ + ٥٢ (٦)$

$٧٧ + ٩٤ (٥)$

$٧٥ + ٤٨ (٤)$

c d u	c d u	c d u

+

c d u	c d u	c d u

+

c d u	c d u	c d u

+

السؤال دعونا نجري العمليات الحسابية التالية مع كتابة علامة صيغة الجمع (+).

$٨٤ + ٤٦$ (٩)	$٩٨ + ٤٦$ (٨)	$٩٧ + ١٦$ (٧)																														
<table border="1" style="width: 100%; border-collapse: collapse;"> <thead> <tr> <th style="width: 33%; text-align: center;">c</th> <th style="width: 33%; text-align: center;">d</th> <th style="width: 33%; text-align: center;">u</th> </tr> </thead> <tbody> <tr> <td style="height: 100px;"></td> <td></td> <td></td> </tr> <tr> <td colspan="3" style="border-top: 1px solid black;"></td> </tr> </tbody> </table>	c	d	u							+	<table border="1" style="width: 100%; border-collapse: collapse;"> <thead> <tr> <th style="width: 33%; text-align: center;">c</th> <th style="width: 33%; text-align: center;">d</th> <th style="width: 33%; text-align: center;">u</th> </tr> </thead> <tbody> <tr> <td style="height: 100px;"></td> <td></td> <td></td> </tr> <tr> <td colspan="3" style="border-top: 1px solid black;"></td> </tr> </tbody> </table>	c	d	u							+	<table border="1" style="width: 100%; border-collapse: collapse;"> <thead> <tr> <th style="width: 33%; text-align: center;">c</th> <th style="width: 33%; text-align: center;">d</th> <th style="width: 33%; text-align: center;">u</th> </tr> </thead> <tbody> <tr> <td style="height: 100px;"></td> <td></td> <td></td> </tr> <tr> <td colspan="3" style="border-top: 1px solid black;"></td> </tr> </tbody> </table>	c	d	u							+
c	d	u																														
c	d	u																														
c	d	u																														

$٤٧ + ٨٥$ (١٢)	$٣٥ + ٧٨$ (١١)	$٥٩ + ٦١$ (١٠)																														
<table border="1" style="width: 100%; border-collapse: collapse;"> <thead> <tr> <th style="width: 33%; text-align: center;">c</th> <th style="width: 33%; text-align: center;">d</th> <th style="width: 33%; text-align: center;">u</th> </tr> </thead> <tbody> <tr> <td style="height: 100px;"></td> <td></td> <td></td> </tr> <tr> <td colspan="3" style="border-top: 1px solid black;"></td> </tr> </tbody> </table>	c	d	u							+	<table border="1" style="width: 100%; border-collapse: collapse;"> <thead> <tr> <th style="width: 33%; text-align: center;">c</th> <th style="width: 33%; text-align: center;">d</th> <th style="width: 33%; text-align: center;">u</th> </tr> </thead> <tbody> <tr> <td style="height: 100px;"></td> <td></td> <td></td> </tr> <tr> <td colspan="3" style="border-top: 1px solid black;"></td> </tr> </tbody> </table>	c	d	u							+	<table border="1" style="width: 100%; border-collapse: collapse;"> <thead> <tr> <th style="width: 33%; text-align: center;">c</th> <th style="width: 33%; text-align: center;">d</th> <th style="width: 33%; text-align: center;">u</th> </tr> </thead> <tbody> <tr> <td style="height: 100px;"></td> <td></td> <td></td> </tr> <tr> <td colspan="3" style="border-top: 1px solid black;"></td> </tr> </tbody> </table>	c	d	u							+
c	d	u																														
c	d	u																														
c	d	u																														

$٦٣ + ٥٩$ (١٥)	$٥٥ + ٧٧$ (١٤)	$٩٨ + ٣٤$ (١٣)																														
<table border="1" style="width: 100%; border-collapse: collapse;"> <thead> <tr> <th style="width: 33%; text-align: center;">c</th> <th style="width: 33%; text-align: center;">d</th> <th style="width: 33%; text-align: center;">u</th> </tr> </thead> <tbody> <tr> <td style="height: 100px;"></td> <td></td> <td></td> </tr> <tr> <td colspan="3" style="border-top: 1px solid black;"></td> </tr> </tbody> </table>	c	d	u							+	<table border="1" style="width: 100%; border-collapse: collapse;"> <thead> <tr> <th style="width: 33%; text-align: center;">c</th> <th style="width: 33%; text-align: center;">d</th> <th style="width: 33%; text-align: center;">u</th> </tr> </thead> <tbody> <tr> <td style="height: 100px;"></td> <td></td> <td></td> </tr> <tr> <td colspan="3" style="border-top: 1px solid black;"></td> </tr> </tbody> </table>	c	d	u							+	<table border="1" style="width: 100%; border-collapse: collapse;"> <thead> <tr> <th style="width: 33%; text-align: center;">c</th> <th style="width: 33%; text-align: center;">d</th> <th style="width: 33%; text-align: center;">u</th> </tr> </thead> <tbody> <tr> <td style="height: 100px;"></td> <td></td> <td></td> </tr> <tr> <td colspan="3" style="border-top: 1px solid black;"></td> </tr> </tbody> </table>	c	d	u							+
c	d	u																														
c	d	u																														
c	d	u																														

مثال دعونا نجرى العمليات الحسابية التالية مع كتابة علامة صيغة الجمع (+) وكذا الخط.

$39 + 84$ <table style="margin: 0 auto; border-collapse: collapse;"> <tr> <td style="border: 1px solid black; padding: 2px;">c</td> <td style="border: 1px solid black; padding: 2px;">d</td> <td style="border: 1px solid black; padding: 2px;">u</td> </tr> </table> <div style="border: 1px solid black; padding: 5px; margin-top: 5px;"> <table style="width: 100%; border-collapse: collapse;"> <tr> <td style="width: 33%; text-align: center;">١</td> <td style="width: 33%; text-align: center;">٨</td> <td style="width: 33%; text-align: center;">٤</td> </tr> <tr> <td style="text-align: center;">٣</td> <td style="text-align: center;">٩</td> <td style="text-align: center;">+</td> </tr> <tr> <td style="text-align: center;">١</td> <td style="text-align: center;">٢</td> <td style="text-align: center;">٣</td> </tr> </table> </div>	c	d	u	١	٨	٤	٣	٩	+	١	٢	٣	$39 + 84$ <table style="margin: 0 auto; border-collapse: collapse;"> <tr> <td style="border: 1px solid black; padding: 2px;">c</td> <td style="border: 1px solid black; padding: 2px;">d</td> <td style="border: 1px solid black; padding: 2px;">u</td> </tr> </table> <div style="border: 1px solid black; padding: 5px; margin-top: 5px;"> <table style="width: 100%; border-collapse: collapse;"> <tr> <td style="width: 33%; height: 100px;"></td> <td style="width: 33%;"></td> <td style="width: 33%;"></td> </tr> </table> </div>	c	d	u			
c	d	u																	
١	٨	٤																	
٣	٩	+																	
١	٢	٣																	
c	d	u																	

← لا تنسى!



جيد!

السؤال دعونا نجرى العمليات الحسابية التالية مع كتابة علامة صيغة الجمع (+) وكذا الخط.

$$68 + 70 \text{ (٣)}$$

c	d	u
---	---	---

--	--	--

$$86 + 37 \text{ (٢)}$$

c	d	u
---	---	---

--	--	--

$$70 + 47 \text{ (١)}$$

c	d	u
---	---	---

--	--	--

$$09 + 63 \text{ (٦)}$$

c	d	u
---	---	---

--	--	--

$$84 + 66 \text{ (٥)}$$

c	d	u
---	---	---

--	--	--

$$90 + 28 \text{ (٤)}$$

c	d	u
---	---	---

--	--	--

السؤال دعونا نجري العمليات الحسابية التالية مع كتابة علامة صيغة الجمع (+) وكذا الخط.

$$٨٧ + ٣٤ (٩)$$

c	d	u

$$٤٨ + ٨٧ (٨)$$

c	d	u

$$٣٨ + ٨٤ (٧)$$

c	d	u

$$٥٤ + ٦٨ (١٢)$$

c	d	u

$$٩٧ + ٣٤ (١١)$$

c	d	u

$$٥٩ + ٧٣ (١٠)$$

c	d	u

$$٣٦ + ٧٧ (١٥)$$

c	d	u

$$٦٧ + ٦٨ (١٤)$$

c	d	u

$$٧٧ + ٤٧ (١٢)$$

c	d	u