


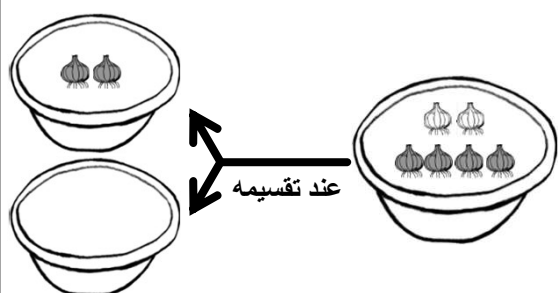


يوجد في الوعاء الكبير عدد 6 بصلات.



سوف نقسمها على وعاءين صغيرين. يا ترى يُمكن تقسيمها إلى ٢ وماذا؟


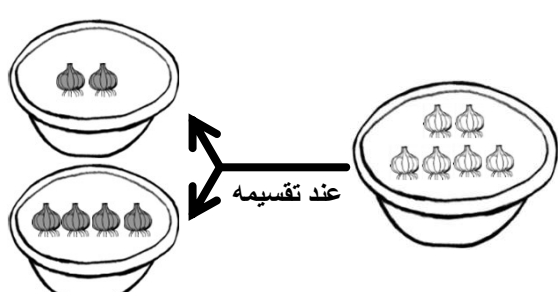
عند تقسيمه



يُمكن تقسيم ٦ إلى ٢ و ٤.

جيدا!

عند تقسيمه



مثال دعونا نكتب العدد المُنتطبق داخل

ما الرقم وما الرقم معاً يكون مجموعهم ٦؟

عند تقسيمه

عند تقسيمه

جيد!

السؤال دعونا نكتب العدد المُنتطبق داخل

(١)

عند تقسيمه

(٢)

عند تقسيمه

(٣)

عند تقسيمه

(٤)

عند تقسيمه

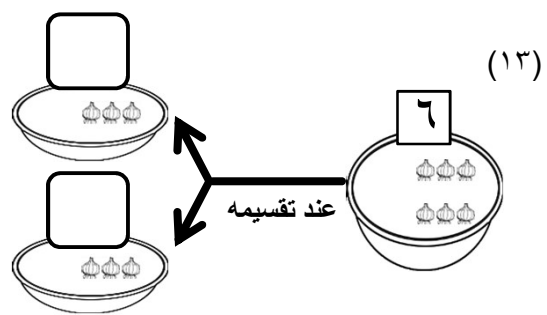
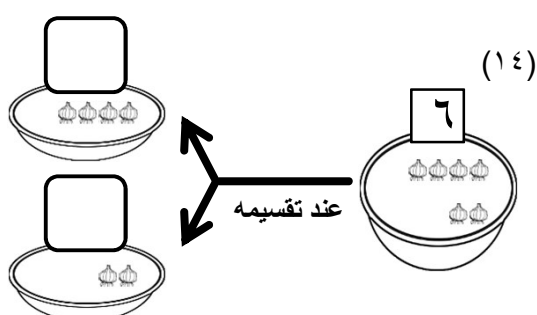
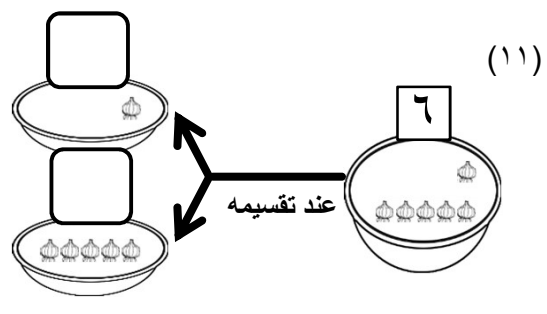
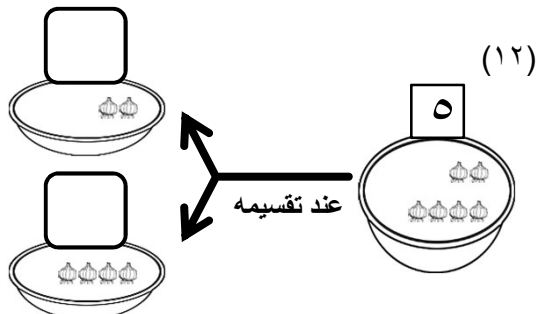
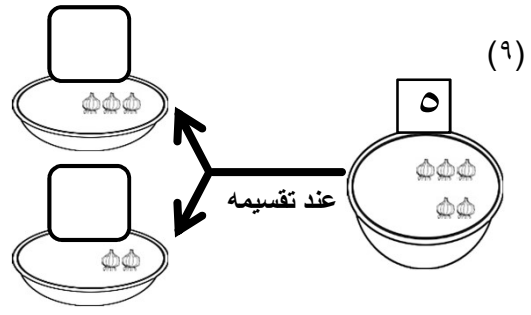
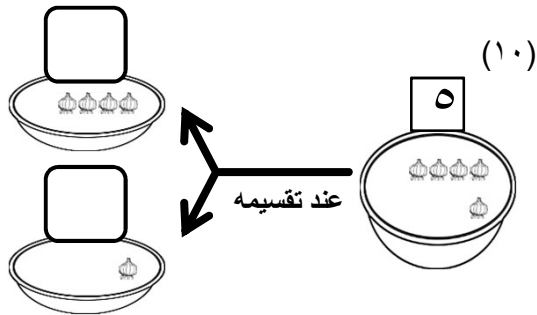
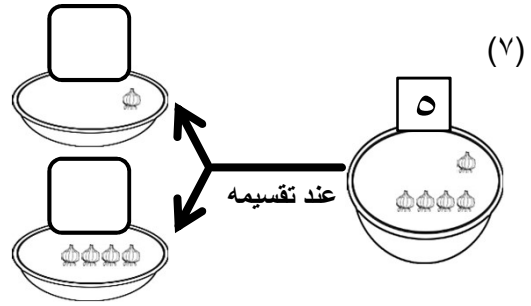
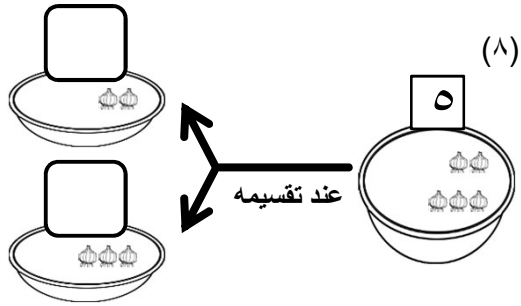
(٥)

عند تقسيمه

(٦)

عند تقسيمه

السؤال دعونا نكتب العدد المنطبق داخل



السؤال دعونا نكتب العدد المُنتطبق داخل

(١٦)

عند تقسيمه

(١٥)

عند تقسيمه

(١٨)

عند تقسيمه

(١٧)

عند تقسيمه

(٢٠)

عند تقسيمه

(١٩)

عند تقسيمه

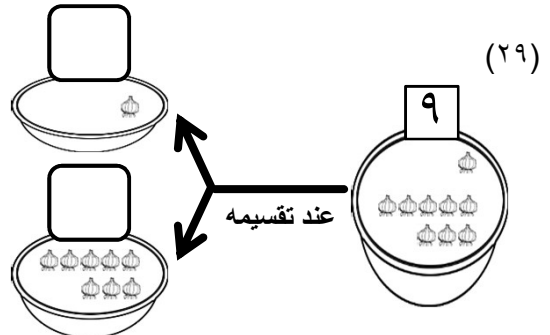
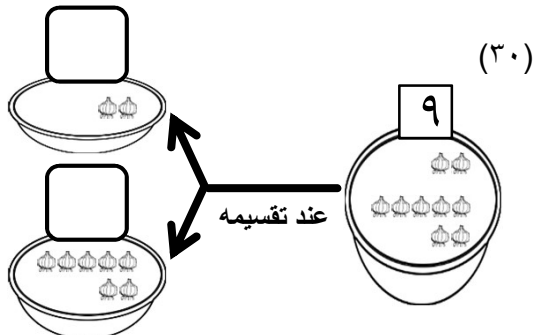
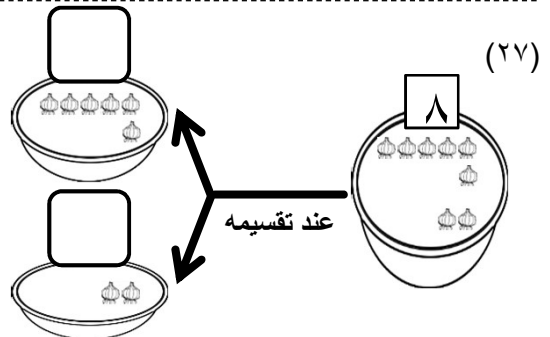
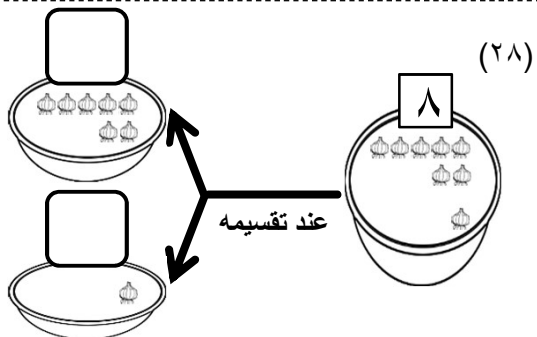
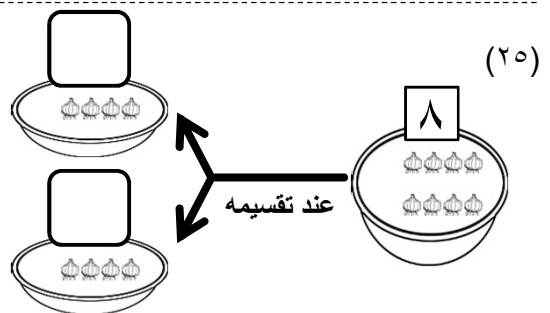
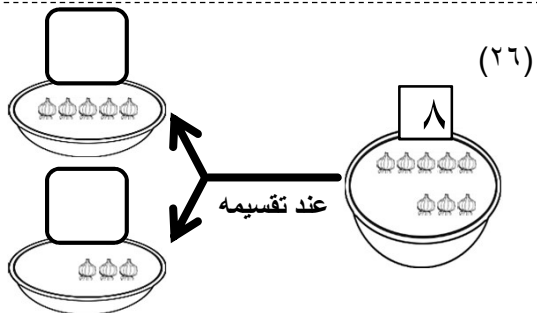
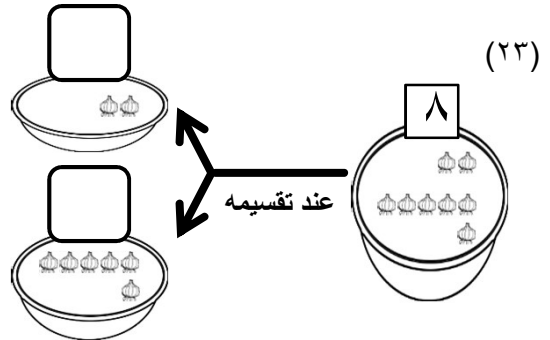
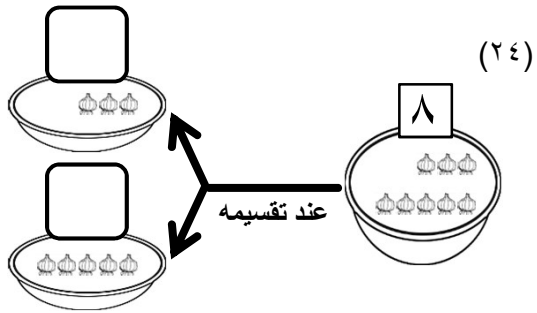
(٢٢)

عند تقسيمه

(٢١)

عند تقسيمه

السؤال دعونا نكتب العدد المُنتطبق داخل



السؤال دعونا نكتب العدد المنطبق داخل

(٣٢)

عند تقسيمه

(٣١)

عند تقسيمه

(٣٤)

عند تقسيمه

(٣٣)

عند تقسيمه

(٣٦)

عند تقسيمه

(٣٥)

عند تقسيمه

(٣٨)

عند تقسيمه

(٣٧)

عند تقسيمه

السؤال دعونا نكتب العدد المُنطبق داخل

(٤٠)

عند تقسيمه

(٣٩)

عند تقسيمه

(٤٢)

عند تقسيمه

(٤١)


عند تقسيمه

(٤٤)

عند تقسيمه

(٤٣)

عند تقسيمه



(٤٥)

عند تقسيمه