

مثال دعونا نرسم  حول العنصر المُنتطبق.

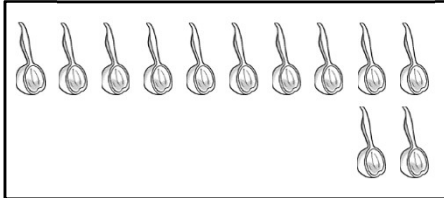
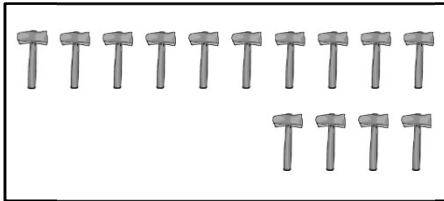
أيهما  ١١ ؟

١١ هو عدد

جيد!


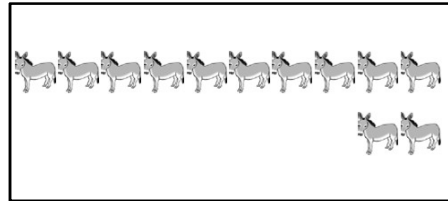
السؤال دعونا نرسم  حول العنصر المُنتطبق.

(٢) أيهما  ١٢ ؟



١٢ هو عدد

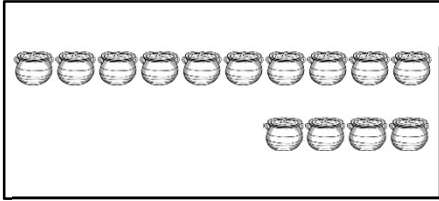
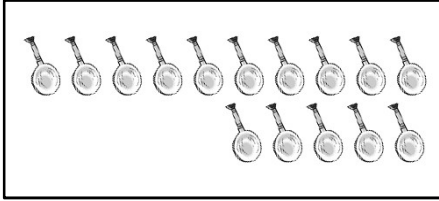
(١) أيهما  ١١ ؟



١١ هو عدد



السؤال دعونا نرسم ○ حول العنصر المُنتطبق.

(٤) أيهما ١٤ ؟




١٤ هو عدد  

(٣) أيهما ١٣ ؟



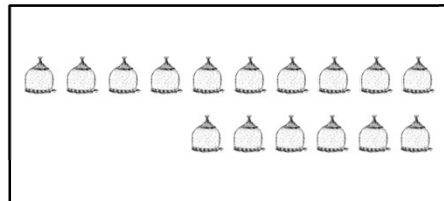
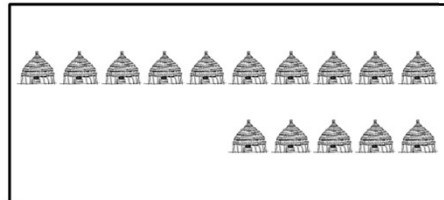
١٣ هو عدد  

(٦) أيهما ١٦ ؟



١٦ هو عدد  

(٥) أيهما ١٥ ؟

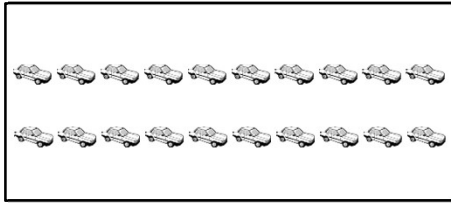



١٥ هو عدد  

السؤال


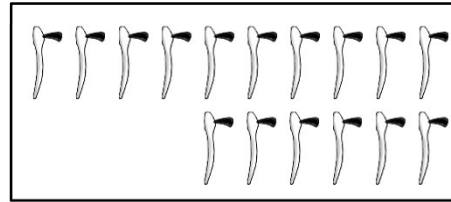
دعونا نرسم  حول العنصر المنطيق.

(٨) أيهما  ١٨ ؟



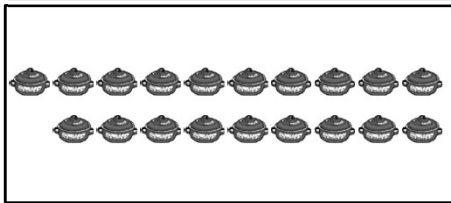
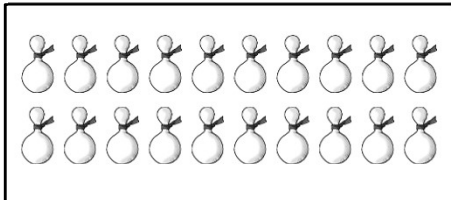
١٨ هو عدد  



(٧) أيهما  ١٧ ؟



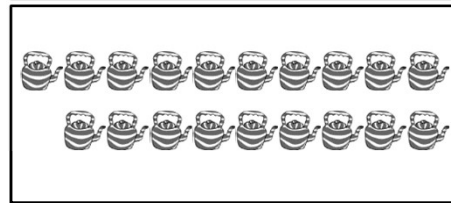
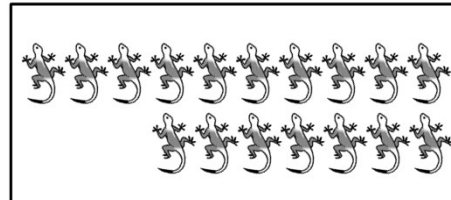
١٧ هو عدد  

(١٠) أيهما  ٢٠ ؟



٢٠ هو عدد  

(٩) أيهما  ١٩ ؟



١٩ هو عدد  