

دعونا نجمع الأعداد التي بها صفر واحد. يا ترى كم عدد حزمة العشرات بكل منهم؟

العدد ٥٠ به ٥ حزم من العشرات،  
والعدد ٧٠ به ٧ حزم من العشرات.

$= 70 + 50$

إذا جمعنا أعداد حزمة العشرات، يا ترى كم سيكون الناتج؟

إذا نظرنا إلى حزمة العشرات نجدهم ١٢.

حزمة من العشرات = ١٢

$= 70 + 50$

من السهل حسابها إذا فكرت في كم عدد حزمة العشرات.


٧+٥ هي نفس حساب  
٧٠+٥٠ بعد حذف  
الصفير.

جيدا!


حزمة من العشرات = ١٢

$120 = 70 + 50$

مثال  دعونا نكتب العدد المُنتطبق داخل

  $120 = 70 + 50$

حزمة العشرات هي  $7 + 5$

جيدا! 

السؤال  دعونا نكتب العدد المُنتطبق داخل

=  $60 + 40$  (٢) حزمة العشرات هي  $6+4$

=  $40 + 80$  (١) حزمة العشرات هي  $4+8$

---

=  $60 + 60$  (٤) حزمة العشرات هي  $6+6$

=  $90 + 50$  (٣) حزمة العشرات هي  $9+5$

---

=  $60 + 90$  (٦) حزمة العشرات هي  $6+9$

=  $80 + 60$  (٥) حزمة العشرات هي  $8+6$

---

=  $70 + 70$  (٨) حزمة العشرات هي  $7+7$

=  $40 + 70$  (٧) حزمة العشرات هي  $4+7$

---

=  $50 + 80$  (١٠) حزمة العشرات هي  $5+8$

=  $20 + 90$  (٩) حزمة العشرات هي  $2+9$

دعونا نجمع الأعداد التي بها صفرين. يا ترى كم عدد حزمة المئات بكل منهم؟

العدد ٤٠٠ به ٤ حزم من المئات،  
والعدد ٣٠٠ به ٣ حزم من المئات.

٤٠٠ + ٣٠٠

٤ ٣

إذا جمعنا أعداد حزمة المئات، يا ترى كم سيكون الناتج؟

إذا نظرنا إلى حزمة المئات  
نجدهم ٧.

٤٠٠ + ٣٠٠

٤ ٣

٧ = ٤ + ٣

حزم من المئات

من السهل حسابها إذا فكرت في كم عدد حزم المئات.

٣+٤ هي نفس حساب  
٣٠٠+٤٠٠ بعد حذف  
الأصفار.

٧ = ٤ + ٣


٧ = ٤ + ٣

٧


حزم من المئات

جيد!

مثال  دعونا نكتب العدد المنطبق داخل

  $700 = 400 + 300$

حزمة المئات هي  $4+3$

جيد! 

السؤال  دعونا نكتب العدد المنطبق داخل

=  $300 +$  (٢)  =  $200 + 400$  (١)

حزمة المئات هي  $3+5$  حزمة المئات هي  $2+4$

=  $500 + 500$  (٤)  =  $500 + 100$  (٣)

حزمة المئات هي  $5+5$  حزمة المئات هي  $5+1$

=  $100 + 700$  (٦)  =  $200 + 800$  (٥)

حزمة المئات هي  $1+7$  حزمة المئات هي  $2+8$

=  $100 + 900$  (٨)  =  $200 + 600$  (٧)

حزمة المئات هي  $1+9$  حزمة المئات هي  $2+6$

=  $300 + 400$  (١٠)  =  $500 +$  (٩)

حزمة المئات هي  $3+4$  حزمة المئات هي  $5+3$

مثال دعونا نكتب العدد المُنتطبق داخل

جيدا!


 ١٢٠

$$= ٧٠ + ٥٠$$

 السؤال دعونا نكتب العدد المُنتطبق داخل

= ٧٠ + ٣٠ (٢)

= ٨٠ + ٥٠ (١)

= ٧٠ + ٧٠ (٤)

= ٥٠ + ٦٠ (٣)

= ٨٠ + ٦٠ (٦)

= ٧٠ + ٤٠ (٥)

= ٨٠ + ٤٠ (٨)

= ٦٠ + ٩٠ (٧)

= ٥٠٠ + ٣٠٠ (١٠)

= ٦٠٠ + ٢٠٠ (٩)

= ١٠٠ + ٦٠٠ (١٢)

= ٢٠٠ + ٤٠٠ (١١)

= ٤٠٠ + ٢٠٠ (١٤)

= ٥٠٠ + ٥٠٠ (١٣)

= ٣٠٠ + ٣٠٠ (١٦)

= ٢٠٠ + ٧٠ (١٥)