

دعونا نطرح الأعداد التي بها صفر واحد. يا ترى كم عدد حزم العشرات بكل منهم؟

العدد ١٢٠ به ١٢ حزم من العشرات،  
والعدد ٣٠ به ٣ حزم من العشرات.

٣٠ - ١٢٠

٣ ١٢

إذا طرحنا أعداد حزم العشرات، يا ترى كم سيكون الناتج؟

إذا نظرنا إلى حزمة  
العشرات نجد الناتج ٩.

٣٠ - ١٢٠

٩ = ٣ - ١٢

حزم من  
العشرات

من السهل حسابها إذا فكرت في كم عدد حزم العشرات.

٩٠ = ٣٠ - ١٢٠


٩ = ٣ - ١٢

جيد!


حزم من  
العشرات

٣ - ١٢ هي نفس  
حساب ٣٠ - ١٢٠  
بعد حذف الصفر.

مثال  دعونا نكتب العدد المُنطبق داخل

  $90 = 30 - 120$

حزمة العشرات هي ٣-١٢

جيد! 

السؤال  دعونا نكتب العدد المُنطبق داخل

$= 60 - 130$  (٢) حزمة العشرات هي ٦-١٣

$= 80 - 140$  (١) حزمة العشرات هي ٨-١٤

---

$= 70 - 160$  (٤) حزمة العشرات هي ٧-١٦

$= 90 - 150$  (٣) حزمة العشرات هي ٩-١٥

---

$= 90 - 180$  (٦) حزمة العشرات هي ٩-١٨

$= 80 - 170$  (٥) حزمة العشرات هي ٨-١٧

---

$= 20 - 110$  (٨) حزمة العشرات هي ٢-١١

$= 70 - 120$  (٧) حزمة العشرات هي ٧-١٢

---

$= 50 - 140$  (١٠) حزمة العشرات هي ٥-١٤

$= 90 - 130$  (٩) حزمة العشرات هي ٩-١٣

دعونا نطرح الأعداد التي بها صفرين. يا ترى كم عدد حزمة المئات بكل منهم؟

العدد ٥٠٠ به ٥ حزم من المئات،  
والعدد ٣٠٠ به ٣ حزم من المئات.

٣٠٠ - ٥٠٠

٣ ٥

إذا طرحنا أعداد حزمة المئات، يا ترى كم سيكون الناتج؟

إذا نظرنا إلى حزم المئات  
نجد الناتج ٢.

٣٠٠ - ٥٠٠

٢ = ٣ - ٥

حزمة من المئات

من السهل حسابها إذا فكرت في كم عدد حزمة المئات.


٣ - ٥ هي نفس حساب  
٣٠٠ - ٥٠٠ بعد حذف  
الأصفار.

جيد!


٢ = ٣ - ٥

حزمة من المئات

مثال  دعونا نكتب العدد المُنطبق داخل

 = 300 - 500

حزمة المئات هي 3-5

جيد! 

السؤال  دعونا نكتب العدد المُنطبق داخل

= 300 - 500 (2)  = 200 - 400 (1)

حزمة المئات هي 3-5

حزمة العشرات هي 2-4

= 400 - 700 (4)  = 500 - 800 (3)

حزمة العشرات هي 4-7

حزمة العشرات هي 5-8

= 700 - 900 (6)  = 200 - 600 (5)

حزمة العشرات هي 7-9

حزمة العشرات هي 2-6

= 500 - 900 (8)  = 200 - 1000 (7)

حزمة العشرات هي 5-9


حزمة العشرات هي 2-10

= 600 - 800 (10)  = 700 - (9)

حزمة العشرات هي 6-8

حزمة العشرات هي 7-10

مثال دعونا نكتب العدد المنطيق داخل

جيدا!   $90 = 30 - 120$

السؤال دعونا نكتب العدد المنطيق داخل

$$\boxed{\phantom{000}} = 70 - 13 \text{ (2)}$$

$$\boxed{\phantom{000}} = 80 - 150 \text{ (1)}$$

$$\boxed{\phantom{000}} = 60 - 11 \text{ (4)}$$

$$\boxed{\phantom{000}} = 50 - 12 \text{ (3)}$$

$$\boxed{\phantom{000}} = 40 - 120 \text{ (6)}$$

$$\boxed{\phantom{000}} = 90 - 140 \text{ (5)}$$

$$\boxed{\phantom{000}} = 80 - 160 \text{ (8)}$$

$$\boxed{\phantom{000}} = 40 - 130 \text{ (7)}$$

$$\boxed{\phantom{000}} = 500 - 800 \text{ (10)}$$

$$\boxed{\phantom{000}} = 600 - 700 \text{ (9)}$$

$$\boxed{\phantom{000}} = 100 - 600 \text{ (12)}$$

$$\boxed{\phantom{000}} = 200 - 400 \text{ (11)}$$

$$\boxed{\phantom{000}} = 400 - 700 \text{ (14)}$$

$$\boxed{\phantom{000}} = 200 - 1000 \text{ (13)}$$

$$\boxed{\phantom{000}} = 700 - 900 \text{ (16)}$$

$$\boxed{\phantom{000}} = 800 - 1000 \text{ (15)}$$