



دعونا نطرح الأعداد الكبيرة.

لأنه لا يمكننا طرح أعداد خانة u وهي ٩-٣، لذا سوف نحسب بعد نقل ١٠ من خانة d

c	d	u
٢	٥	١٣
	<del>٦</del>	<del>٣</del>
	٩	

$٤ = ٩ - ١٣$

٤






أصبح العدد بخانة d ٥. وخانة c تظل كما هي ٢.

عليك أن تكتب ٢ و ٥ كما هي بخانتي c و d .

c	d	u
٢	٥	١٣
	<del>٦</del>	<del>٣</del>
	٩	

٢ ٥ ٤

T18\_S09

بهذا الرسم U تعني ، d تعني ، c تعني .

دعونا نطرح الأعداد الكبيرة.

لأنه لا يمكننا طرح أعداد خانة u وهي ٩-٣، لذا سوف نحسب بعد نقل ١٠ من خانة d .

١ = ٤ - ٥

٤ = ٩ - ١٣

c	d	u
	٥	١٣
	<del>٣</del>	<del>٣</del>
	٤	٩
-----		
	١	٤

خانة d هي ٤-٥ .

خانة c تظل كما هي ٢ .

عليك أن تكتب ٢ كما هي بخانة c .

c	d	u
	٥	١٣
	<del>٣</del>	<del>٣</del>
	٤	٩
-----		
٢	١	٤

خانة c تظل كما هي ٢ .

مثال دعونا نجري العمليات الحسابية التالية.

عندما يتغير الرقم في السؤال احذفه بخط.

$$9 - 263$$

9	-	2	63	
2	0	5	4	-

لا تنسى!



$$9 - 263$$

9	-	2	63	
2	6	3	-	-

جيد!



السؤال دعونا نجري العمليات الحسابية التالية.

عندما يتغير الرقم في السؤال احذفه بخط.

$$8 - 443 \text{ (٤)}$$

8	-	4	43	
4	4	3	-	-

$$9 - 632 \text{ (٣)}$$

9	-	6	32	
6	3	2	-	-

$$7 - 040 \text{ (٢)}$$

7	-	0	40	
0	4	0	-	-

$$7 - 364 \text{ (١)}$$

7	-	3	64	
3	6	4	-	-

$$36 - 204 \text{ (٨)}$$

36	-	2	04	
2	0	4	-	-

$$09 - 783 \text{ (٧)}$$

09	-	7	83	
7	8	3	-	-

$$27 - 961 \text{ (٦)}$$

27	-	9	61	
9	6	1	-	-

$$39 - 870 \text{ (٥)}$$

39	-	8	70	
8	7	0	-	-

السؤال دعونا نجرى العمليات الحسابية التالية.

عندما يتغير الرقم في السؤال احذفه بخط.

٩ - ٩٤٥ (١٢)    ٦ - ٧٦٠ (١١)    ٨ - ٣٥٧ (١٠)    ٩ - ٢٦٦ (٩)

٩	٤	٥	
		٩	-
<hr/>			

٧	٦	٠	
		٦	-
<hr/>			

٣	٥	٧	
		٨	-
<hr/>			

٢	٦	٦	
		٩	-
<hr/>			

١٩ - ٤٣٤ (١٦)    ١٨ - ٣٦٧ (١٥)    ٥٥ - ٦٨٣ (١٤)    ٤٧ - ٥٧٥ (١٣)

٤	٣	٤	
		١٩	-
<hr/>			

٣	٦	٧	
		١٨	-
<hr/>			

٦	٨	٣	
		٥٥	-
<hr/>			

٥	٧	٥	
		٤٧	-
<hr/>			

٢٧ - ٦٤٤ (٢٠)    ٢٨ - ٥٤٣ (١٩)    ١٧ - ٨٦٠ (١٨)    ٢٩ - ٧٥٢ (١٧)

٦	٤	٤	
		٢٧	-
<hr/>			

٥	٤	٣	
		٢٨	-
<hr/>			

٨	٦	٠	
		١٧	-
<hr/>			

٧	٥	٢	
		٢٩	-
<hr/>			

**السؤال** دعونا نجرى العمليات الحسابية التالية مع كتابة علامة صيغة الطرح (-).  
عندما يتغير الرقم فى السؤال احذفه بخط.

9 - 263

9	2	3
0	6	3
2	6	3
204		

لا تنسى!

←

9 - 263


لا تنسى!

**السؤال** دعونا نجرى العمليات الحسابية التالية مع كتابة علامة صيغة الطرح (-).

عندما يتغير الرقم فى السؤال احذفه بخط.

8 - 420 (3)

c	d	u

5 - 183 (2)

c	d	u

6 - 294 (1)

c	d	u

43 - 580 (6)

c	d	u

39 - 947 (5)

c	d	u

27 - 604 (4)

c	d	u

السؤال دعونا نجرى العمليات الحسابية التالية مع كتابة علامة صيغة الطرح (-).

عندما يتغير الرقم في السؤال احذفه بخط.

$١٨ - ٢٣٠$ (٩)	$٦٧ - ٧٩٦$ (٨)	$٢٩ - ٣٤٧$ (٧)																		
<table style="width: 100%; border-collapse: collapse;"> <tr> <td style="width: 33%; text-align: center; border-bottom: 1px solid black;">c</td> <td style="width: 33%; text-align: center; border-bottom: 1px solid black;">d</td> <td style="width: 33%; text-align: center; border-bottom: 1px solid black;">u</td> </tr> <tr> <td style="border: 1px solid black; height: 100px;"></td> <td style="border: 1px solid black; height: 100px;"></td> <td style="border: 1px solid black; height: 100px;"></td> </tr> </table>	c	d	u				<table style="width: 100%; border-collapse: collapse;"> <tr> <td style="width: 33%; text-align: center; border-bottom: 1px solid black;">c</td> <td style="width: 33%; text-align: center; border-bottom: 1px solid black;">d</td> <td style="width: 33%; text-align: center; border-bottom: 1px solid black;">u</td> </tr> <tr> <td style="border: 1px solid black; height: 100px;"></td> <td style="border: 1px solid black; height: 100px;"></td> <td style="border: 1px solid black; height: 100px;"></td> </tr> </table>	c	d	u				<table style="width: 100%; border-collapse: collapse;"> <tr> <td style="width: 33%; text-align: center; border-bottom: 1px solid black;">c</td> <td style="width: 33%; text-align: center; border-bottom: 1px solid black;">d</td> <td style="width: 33%; text-align: center; border-bottom: 1px solid black;">u</td> </tr> <tr> <td style="border: 1px solid black; height: 100px;"></td> <td style="border: 1px solid black; height: 100px;"></td> <td style="border: 1px solid black; height: 100px;"></td> </tr> </table>	c	d	u			
c	d	u																		
c	d	u																		
c	d	u																		

$٥ - ٣٩١$ (١٢)	$٧ - ٤٨٠$ (١١)	$٨ - ٦٥٢$ (١٠)																		
<table style="width: 100%; border-collapse: collapse;"> <tr> <td style="width: 33%; text-align: center; border-bottom: 1px solid black;">c</td> <td style="width: 33%; text-align: center; border-bottom: 1px solid black;">d</td> <td style="width: 33%; text-align: center; border-bottom: 1px solid black;">u</td> </tr> <tr> <td style="border: 1px solid black; height: 100px;"></td> <td style="border: 1px solid black; height: 100px;"></td> <td style="border: 1px solid black; height: 100px;"></td> </tr> </table>	c	d	u				<table style="width: 100%; border-collapse: collapse;"> <tr> <td style="width: 33%; text-align: center; border-bottom: 1px solid black;">c</td> <td style="width: 33%; text-align: center; border-bottom: 1px solid black;">d</td> <td style="width: 33%; text-align: center; border-bottom: 1px solid black;">u</td> </tr> <tr> <td style="border: 1px solid black; height: 100px;"></td> <td style="border: 1px solid black; height: 100px;"></td> <td style="border: 1px solid black; height: 100px;"></td> </tr> </table>	c	d	u				<table style="width: 100%; border-collapse: collapse;"> <tr> <td style="width: 33%; text-align: center; border-bottom: 1px solid black;">c</td> <td style="width: 33%; text-align: center; border-bottom: 1px solid black;">d</td> <td style="width: 33%; text-align: center; border-bottom: 1px solid black;">u</td> </tr> <tr> <td style="border: 1px solid black; height: 100px;"></td> <td style="border: 1px solid black; height: 100px;"></td> <td style="border: 1px solid black; height: 100px;"></td> </tr> </table>	c	d	u			
c	d	u																		
c	d	u																		
c	d	u																		

$٢٩ - ٩٤٢$ (١٥)	$٧٦ - ٥٩٣$ (١٤)	$١٩ - ٢٣١$ (١٣)																		
<table style="width: 100%; border-collapse: collapse;"> <tr> <td style="width: 33%; text-align: center; border-bottom: 1px solid black;">c</td> <td style="width: 33%; text-align: center; border-bottom: 1px solid black;">d</td> <td style="width: 33%; text-align: center; border-bottom: 1px solid black;">u</td> </tr> <tr> <td style="border: 1px solid black; height: 100px;"></td> <td style="border: 1px solid black; height: 100px;"></td> <td style="border: 1px solid black; height: 100px;"></td> </tr> </table>	c	d	u				<table style="width: 100%; border-collapse: collapse;"> <tr> <td style="width: 33%; text-align: center; border-bottom: 1px solid black;">c</td> <td style="width: 33%; text-align: center; border-bottom: 1px solid black;">d</td> <td style="width: 33%; text-align: center; border-bottom: 1px solid black;">u</td> </tr> <tr> <td style="border: 1px solid black; height: 100px;"></td> <td style="border: 1px solid black; height: 100px;"></td> <td style="border: 1px solid black; height: 100px;"></td> </tr> </table>	c	d	u				<table style="width: 100%; border-collapse: collapse;"> <tr> <td style="width: 33%; text-align: center; border-bottom: 1px solid black;">c</td> <td style="width: 33%; text-align: center; border-bottom: 1px solid black;">d</td> <td style="width: 33%; text-align: center; border-bottom: 1px solid black;">u</td> </tr> <tr> <td style="border: 1px solid black; height: 100px;"></td> <td style="border: 1px solid black; height: 100px;"></td> <td style="border: 1px solid black; height: 100px;"></td> </tr> </table>	c	d	u			
c	d	u																		
c	d	u																		
c	d	u																		

**مثال** دعونا نجرى العمليات الحسابية التالية مع كتابة علامة صيغة الطرح (-) وكذا الخط. عندما يتغير الرقم فى السؤال احذفه بخط.

٩ - ٢٦٣

٩ - ٢٦٣

لا تنسى!

لا تنسى!

٥ ١٣  
٢ ٦ ٣  
٩  
٢ ٥ ٤

**السؤال** دعونا نجرى العمليات الحسابية التالية مع كتابة علامة صيغة الطرح (-) وكذا الخط.

عندما يتغير الرقم فى السؤال احذفه بخط.

٤٨ - ٤٥٦ (٣)

٤٧ - ٨٦٤ (٢)

٢٨ - ٧٥٢ (١)

c	d	u

c	d	u

c	d	u

٥ - ٢٨٢ (٦)

٦ - ٦٥٠ (٥)

٨ - ٣٦٢ (٤)

c	d	u

c	d	u

c	d	u

دعونا نجرى العمليات الحسابية التالية مع كتابة علامة صيغة الطرح (-) وكذا الخط.

عندما يتغير الرقم في السؤال احذفه بخط.

$$٢٧ - ٥٤٦ \quad (٩)$$

c	d	u

$$٣٦ - ٧٥٣ \quad (٨)$$

c	d	u

$$٣٤ - ٢٧١ \quad (٧)$$

c	d	u

$$٥ - ٨٩٢ \quad (١٢)$$

c	d	u

$$٩ - ٥٦٧ \quad (١١)$$

c	d	u

$$٨ - ٢٧٥ \quad (١٠)$$

c	d	u

$$٥٦ - ٦٧٠ \quad (١٥)$$

c	d	u

$$٤٧ - ٣٦٢ \quad (١٤)$$

c	d	u

$$٢٩ - ٣٤٣ \quad (١٣)$$

c	d	u