


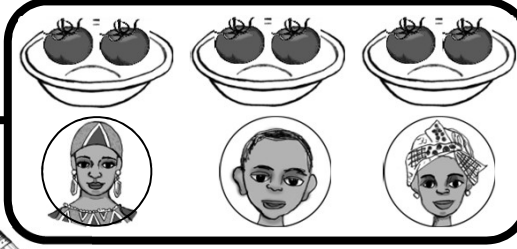
لدى كل شخص وعاء به عدد ٢ من الطماطم. فيا ترى كم عدد الطماطم لدى الجميع؟

كل شخص منهم لديه وعاء،  
لذا فإن عدد الأوعية ٣.



دعونا نكتب صيغة حساب عدد الطماطم التي يمتلكها الثلاثة أشخاص من خلال صيغة الضرب.

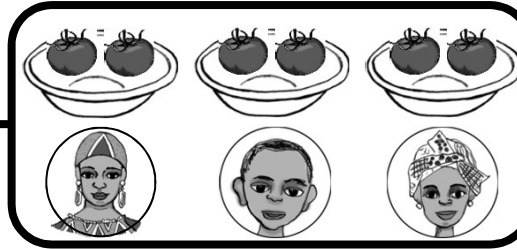
$$\boxed{\phantom{00}} = \boxed{\phantom{00}}$$



الإجابة هي حساب  
٢+٢+٢.



$$\boxed{6} = \boxed{3 \times 2}$$



جيد!



(٣ × ٢) تعني أن هناك ثلاثة مجموعات بكل مجموعة عدد ٢ من الطماطم.



مثال إكتب العدد المُنتطبق داخل ، ثم دعونا نحسب العدد الإجمالي للشيء.


$6 = 3 \times 2$        =   $\times$

جدا!

$2 + 2 + 2$        $2 + 2 + 2$


السؤال إكتب العدد المُنتطبق داخل ، ثم دعونا نحسب العدد الإجمالي للشيء.

(١)

  $2$

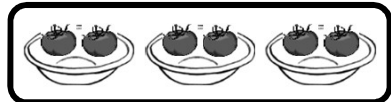
=   $\times$

(٢)

  $2 + 2$

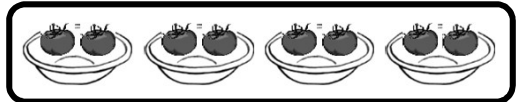
=   $\times$

(٣)

  $2 + 2 + 2$

=   $\times$

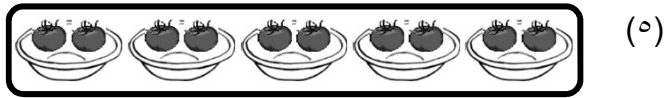
(٤)

  $2 + 2 + 2 + 2$

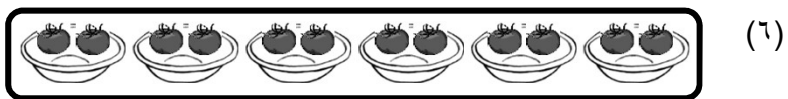
=   $\times$

السؤال

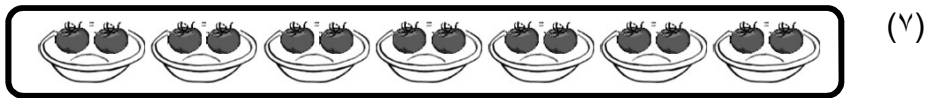
إكتب العدد المُنتِظ داخل  ، ثم دعونا نحسب العدد الإجمالي للشئ.




$$\square = \square \times \square \quad \underbrace{2 + 2 + 2 + 2 + 2}$$




$$\square = \square \times \square \quad \underbrace{2 + 2 + 2 + 2 + 2 + 2}$$



$$\square = \square \times \square \quad \underbrace{2 + 2 + 2 + 2 + 2 + 2 + 2}$$



$$\square = \square \times \square \quad \underbrace{2 + 2 + 2 + 2 + 2 + 2 + 2 + 2}$$



$$\square = \square \times \square \quad \underbrace{2 + 2 + 2 + 2 + 2 + 2 + 2 + 2 + 2}$$

دعونا نلقي نظرة على «جدول ضرب ٢».



$$6 = 3 \times 2$$



$$4 = 2 \times 2$$



$$2 = 1 \times 2$$



$$12 = 6 \times 2$$



$$10 = 5 \times 2$$



$$8 = 4 \times 2$$



$$18 = 9 \times 2$$



$$16 = 8 \times 2$$



$$14 = 7 \times 2$$

رقم ٢ المتزايد هو نفس الرقم ٢  
العدد الذي يسبق علامة (×)  
(الرقم الأول في صيغة الضرب).



الإجابة تزداد كل مرة  
بمقدار ٢.



دعونا نحفظ «جدول ضرب ٢».  
دعونا نحفظه من خلال قراءته عدة مرات بعد كتابة الإجابة.



إثنان	إثنان في واحد	<input type="text"/> = ١ × ٢
أربعة	إثنان في إثنين	<input type="text"/> = ٢ × ٢
ستة	إثنان في ثلاثة	<input type="text"/> = ٣ × ٢
ثمانية	إثنان في أربعة	<input type="text"/> = ٤ × ٢
عشرة	إثنان في خمسة	<input type="text"/> = ٥ × ٢
إثني عشر	إثنان في ستة	<input type="text"/> = ٦ × ٢
أربعة عشر	إثنان في سبعة	<input type="text"/> = ٧ × ٢
ستة عشر	إثنان في ثمانية	<input type="text"/> = ٨ × ٢
ثمانية عشر	إثنان في تسعة	<input type="text"/> = ٩ × ٢