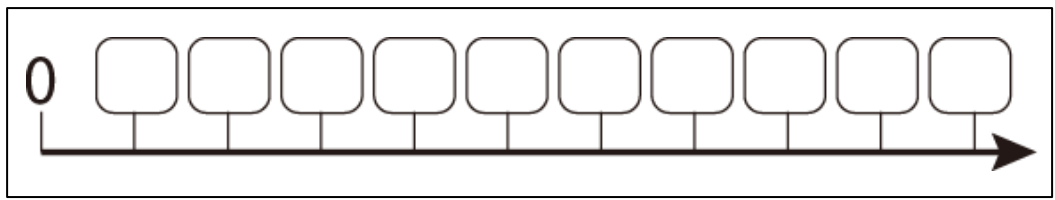




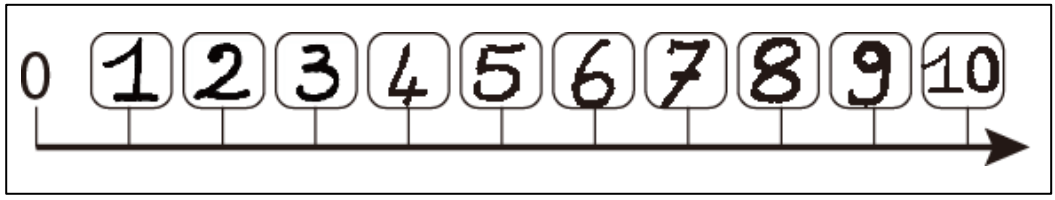
1から10の数を順に書こう。



Bien!



線の上に、数を順に書いた線を「数直線」というよ。



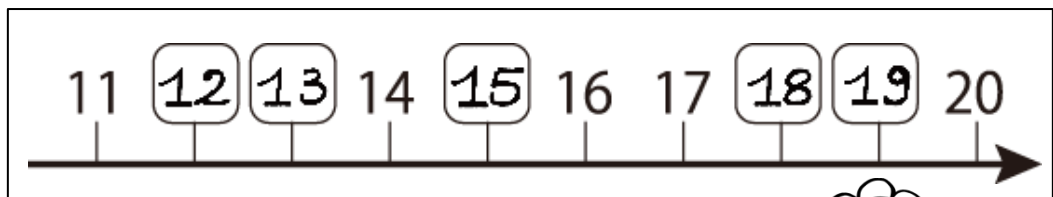
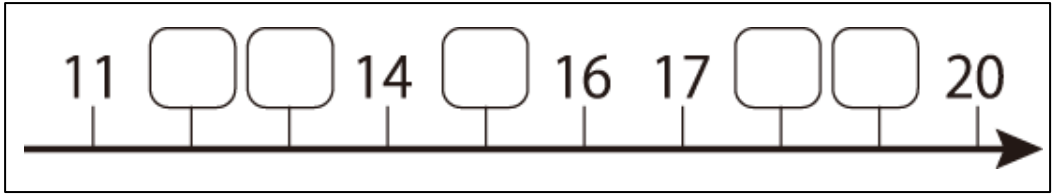
数が1ずつ大きくなっているわ。



右にある数のほうが大きい数だね。
4は3の右にあるから、
0, 1, 2, 3より大きいね。



にあてはまる数を書こう。



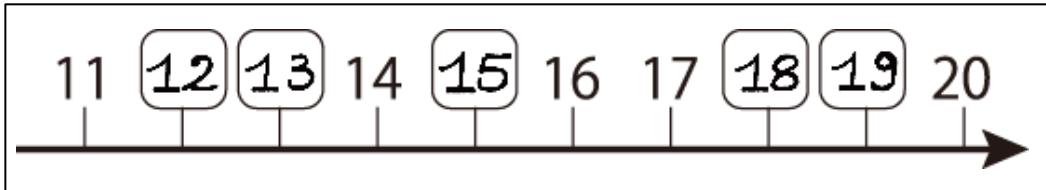
数直線は11のように、途中の数から始まるものもあるよ。



Bien!



数直線を見ると、17が14より3つ大きいことがわかるね。



15は13より
2つ大きい数ね。



16は、19より
3つ小さい数だね。



数直線をかいてみよう。

0から10までの数直線をかくよ。

① 1本の矢印の線をかく。



② 左のはしと少し右側にたての線を1本ずつ書く。

2本の間が、1つ分の長さになる。



③ 2本のたての線の上に、0と1を書く。



④ 1の右側に、0と1の間と同じ長さになるように、たての線を9本かく。



⑤ 間のたての線の上に、1, 2, 3とかく。右にいくほど数は大きくなる。


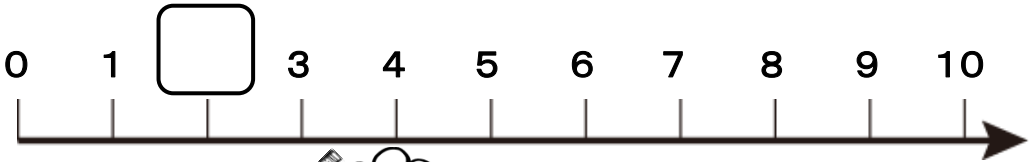


⑥ 続いて、4, 5, 6, 7, 8, 9とかいたら、数直線の出来上がり。

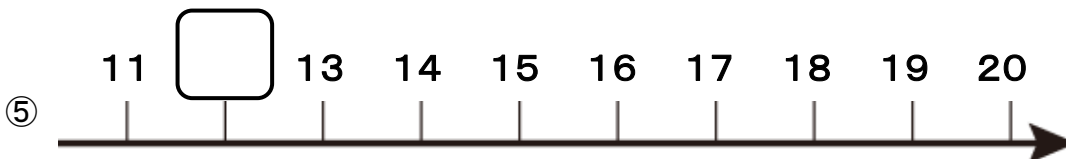
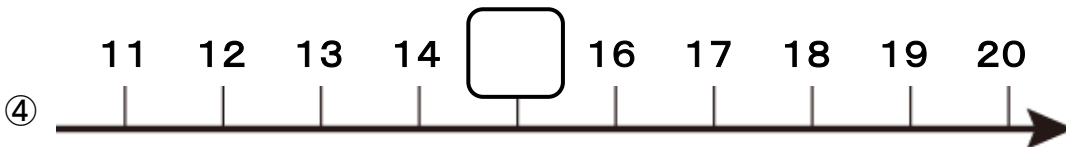
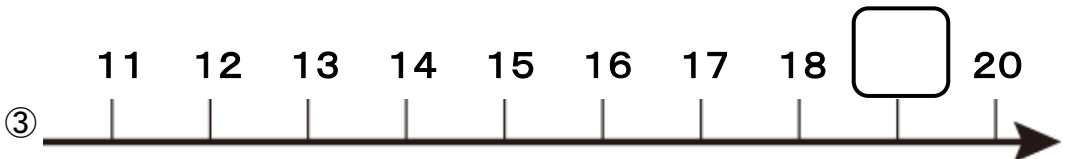
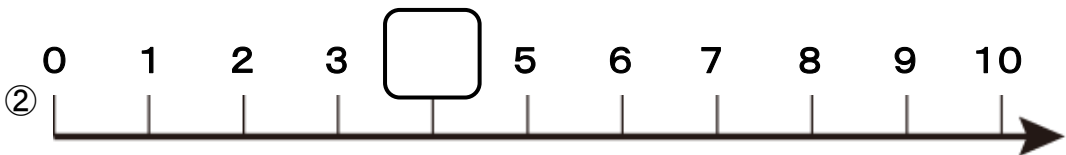
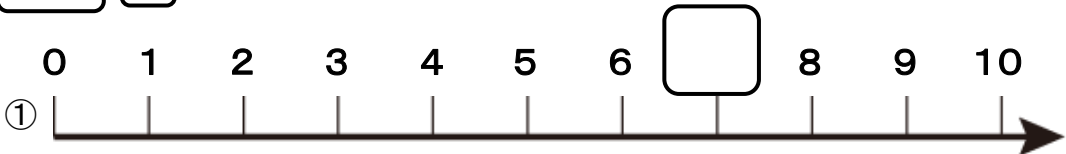


Bien!

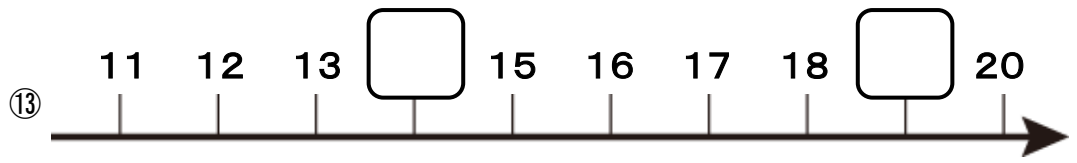
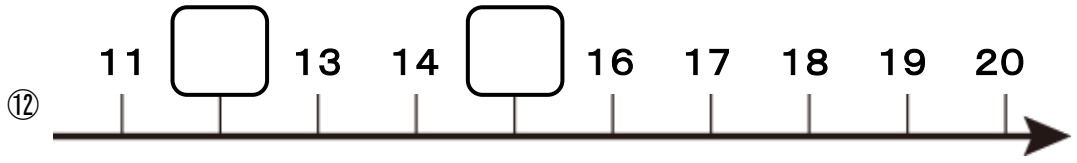
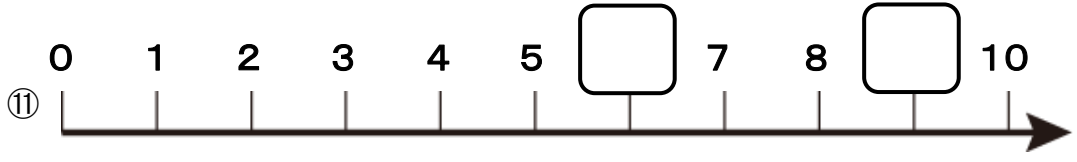
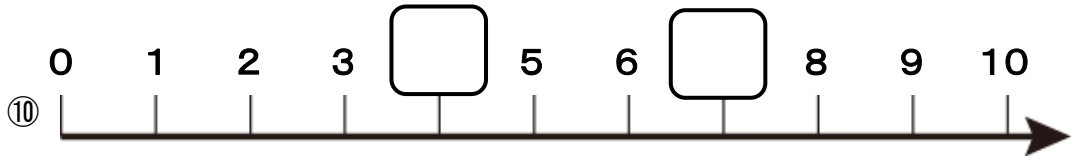
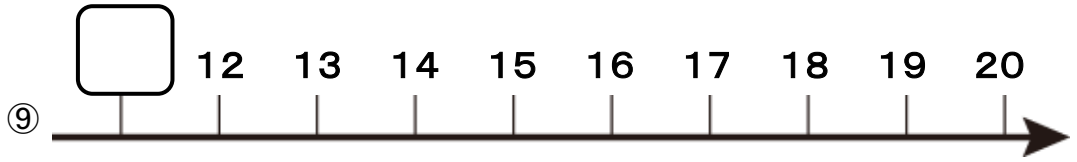
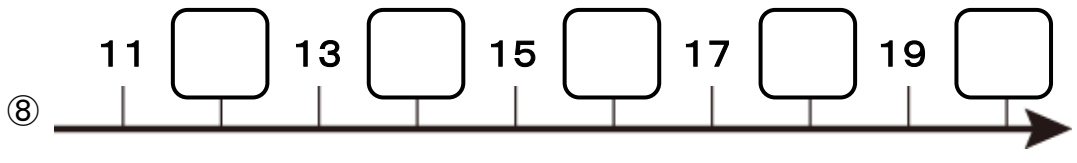
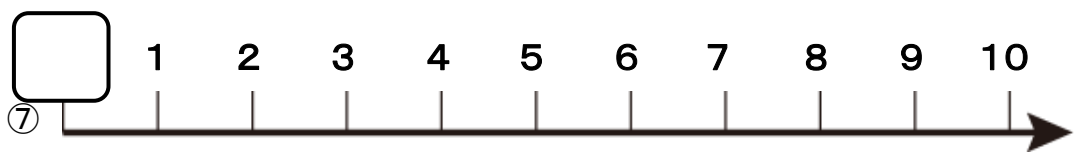
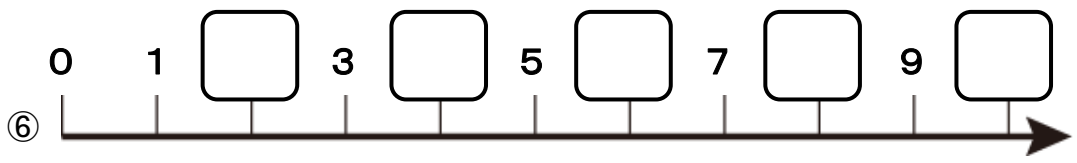
例題 にあてはまる数を書きましょう。



問題 にあてはまる数を書きましょう。



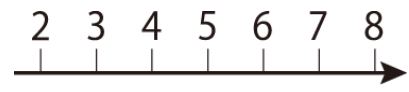
問題 にあてはまる数を書きましょう。




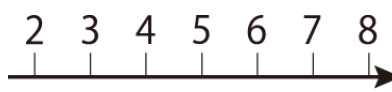
例題 □ にあてはまる数を書きましょう。

わからないときは、数直線を見て考えましょう。

① 5より2大きい数は □



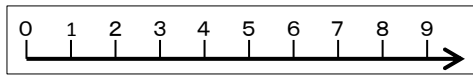
① 5より2大きい数は



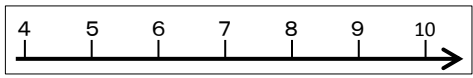
問題 □ にあてはまる数を書きましょう。

わからないときは、数直線を見て考えましょう。

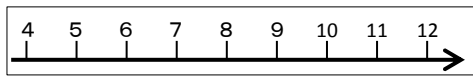
① 3より5大きい数は □



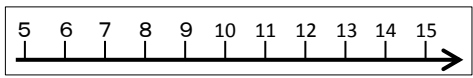
② 7より2大きい数は □



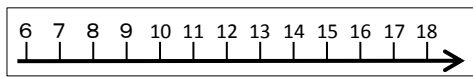
③ 8より3大きい数は □



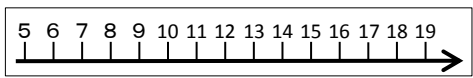
④ 10より4大きい数は □



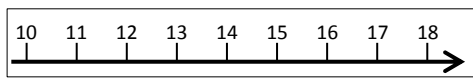
⑤ 12より5大きい数は □



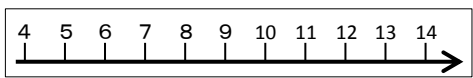
⑥ 11より6大きい数は □



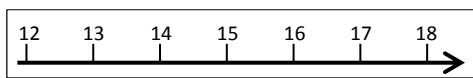
⑦ 14より3大きい数は □



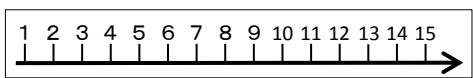
⑧ 9より4大きい数は □



⑨ 15より2大きい数は □



⑩ 8より6大きい数は □



例題 にあてはまる数を書きましょう。

わからないときは、数直線を見て考えましょう。

① 5より2小さい数は



① 5より2大きい数は



3

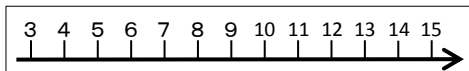


Bien!

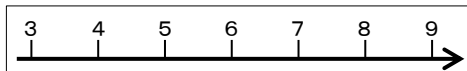
問題 にあてはまる数を書きましょう。

わからないときは、数直線を見て考えましょう。

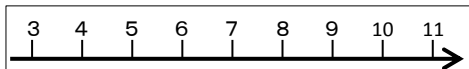
① 9より5小さい数は



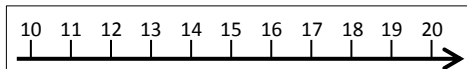
② 6より2小さい数は



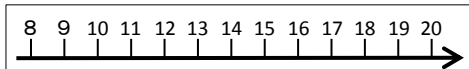
③ 7より3小さい数は



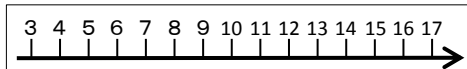
④ 15より4小さい数は



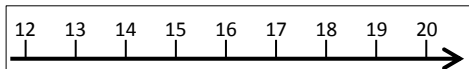
⑤ 14より5小さい数は



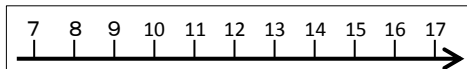
⑥ 10より6小さい数は



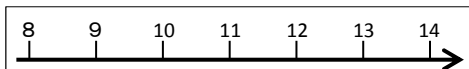
⑦ 16より3小さい数は



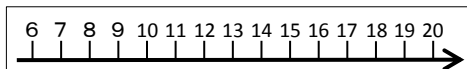
⑧ 12より4小さい数は



⑨ 11より2小さい数は

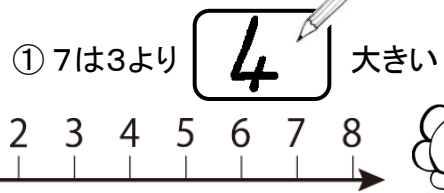
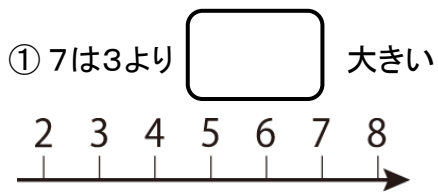


⑩ 13より6小さい数は



例題 にあてはまる数を書きましょう。

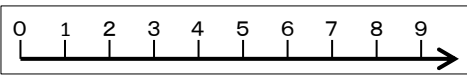
わからないときは、数直線を見て考えましょう。



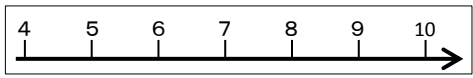
問題 にあてはまる数を書きましょう。

わからないときは、数直線を見て考えましょう。

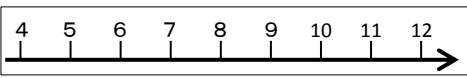
① 9は5より 大きい



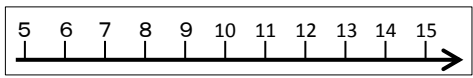
② 8は6より 大きい



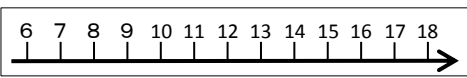
③ 10は8より 大きい



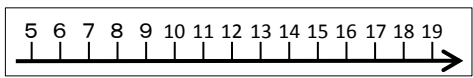
④ 14は11より 大きい



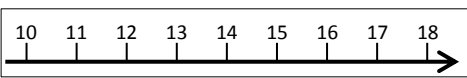
⑤ 16は12より 大きい



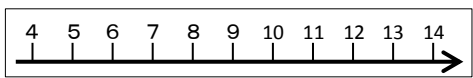
⑥ 19は13より 大きい



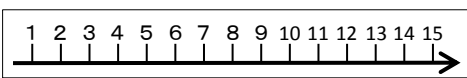
⑦ 15は10より 大きい



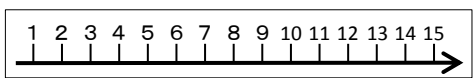
⑧ 11は7より 大きい



⑨ 14は6より 大きい

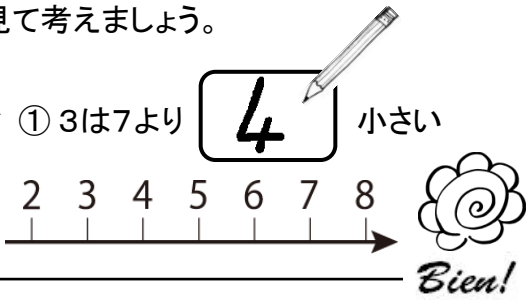
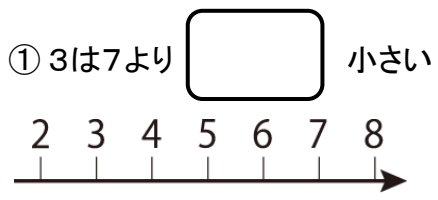


⑩ 12は4より 大きい



例題 □ にあてはまる数を書きましょう。

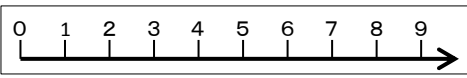
わからないときは、数直線を見て考えましょう。



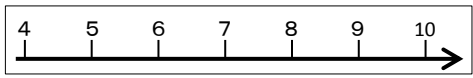
問題 □ にあてはまる数を書きましょう。

わからないときは、数直線を見て考えましょう。

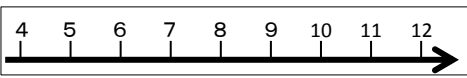
① 4は6より □ 小さい



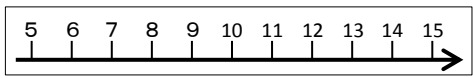
② 5は9より □ 小さい



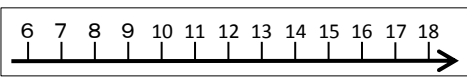
③ 4は9より □ 小さい



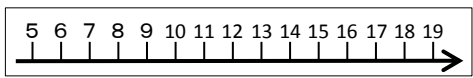
④ 10は12より □ 小さい



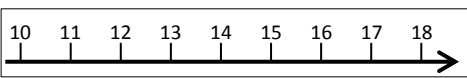
⑤ 13は16より □ 小さい



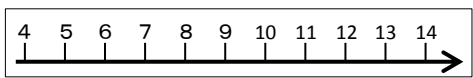
⑥ 13は17より □ 小さい



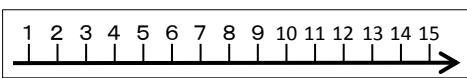
⑦ 11は18より □ 小さい



⑧ 6は13より □ 小さい



⑨ 5は12より □ 小さい



⑩ 3は15より □ 小さい

