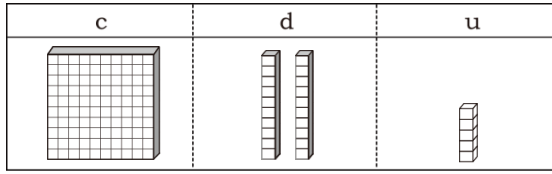


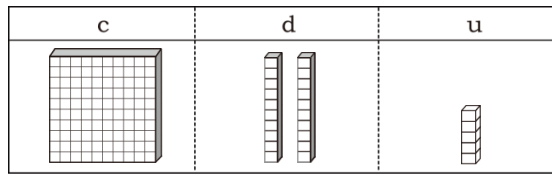
次の数の数字と読み方を書こう。



が1枚,
 が2本, が
 5個ある数ね。



Bien!



125は100と25を
 合わせた数ね。

125

cent vingt-cinq



101から199までの数は、100と何個と読むんだよ。




125	cent vingt-cinq
145	cent quarante-cinq
165	cent soixante-cinq
185	cent quatre-vingt-cinq
195	cent quatre-vingt-quinze
199	cent quatre-vingt-dix-neuf



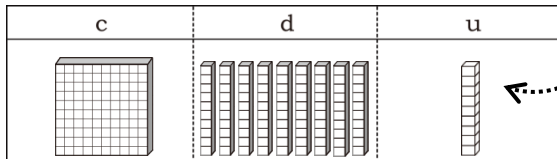
0から100までの読み方がわかれば、101から199もわかるね。


199より1大きい数の表し方を見てみよう。


199の **u** のところの  が1個増えるのね。

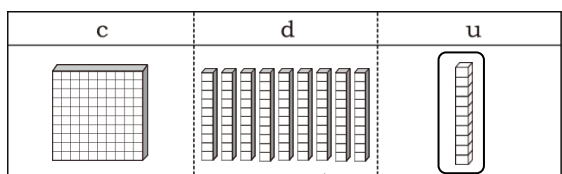



199





u の  が10個になるから、**d** のところにうつすよ。

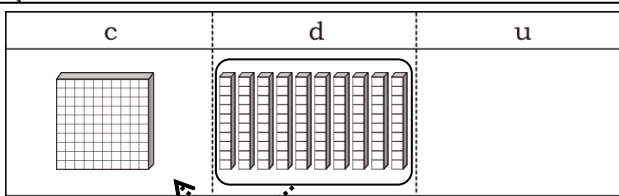
199の **d** のところの  が、1本増えるんだね。



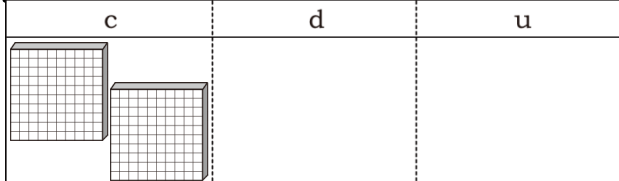
199の **d** のところの  が、1本増えるんだね。

d の  が10本になるから、**c** のところにうつすよ。

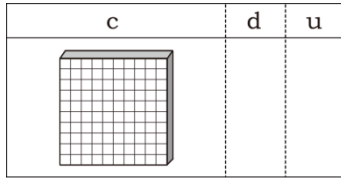
100は、**c** のところに  が2枚ある数だ。



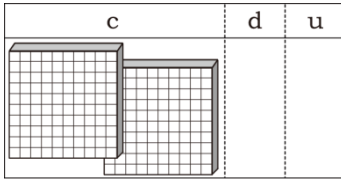
200



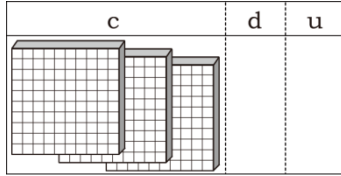
c のところの  が1枚ずつ増えたときの数を見てみよう。



100



200

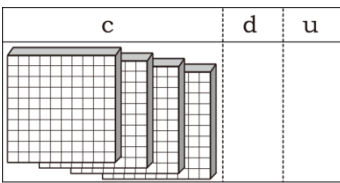


300

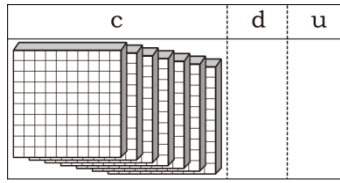
c のところの
数が1ずつ増
えているね。



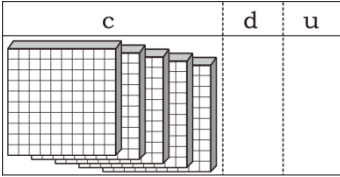
c のところの数は、9までであるよ。



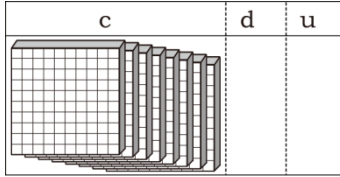
400



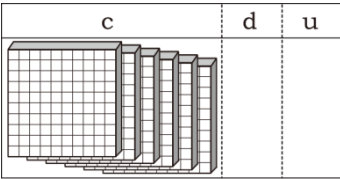
700



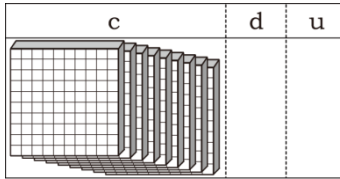
500



800



600



900

200を読んでみよう。



200

deux cents

deux cents



201は、200、1と読むよ。



deux cent un

201

200

1

deux cents un

101も、100、1と読むから同じだね。



202からの数も、1つずつ増えていくよ。



deux cent deux

202

200

2

deux cents deux

deux cent trois

203

200

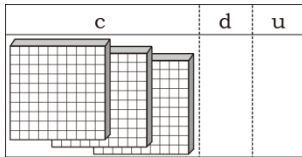
3

deux cents trois



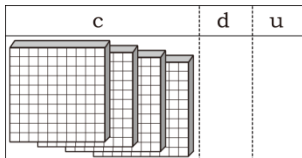


300から900までの数を読んでみよう。



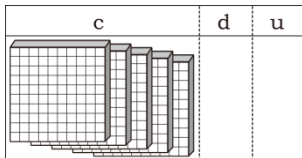
300

trois cents



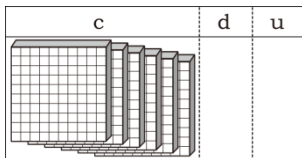
400

quatre cents



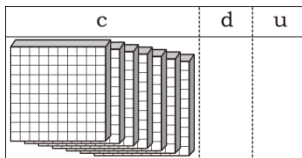
500

cing cents



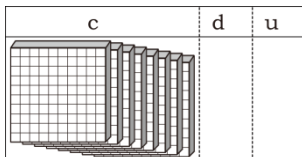
600

six cents



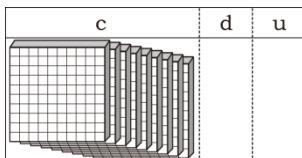
700

sept cents



800

huit cents



900

neuf cents

301からの数も、1つずつ増えていくよ。



trois cent un

301

300

1

trois cents un

trois cent deux

302

300

2

trois cents deux

101,
201も
1つずつ
増えるから
同じだね。



999までの数から、最後が1の数を見てみよう。



101は100と1、
901は900と1
というように、全部、
同じように何百と1と
読むんだね。

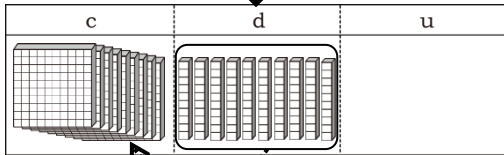
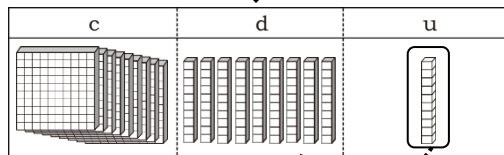
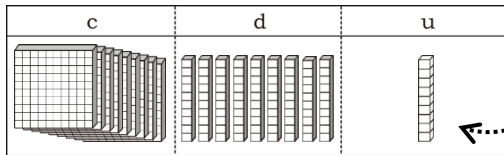


1	un
101	cent un
201	deux cent un
301	trois cent un
401	quatre cent un
501	cing cent un
601	six cent un
701	sept cent un
801	huit cent un
901	neuf cent un

999より1大きい数の表し方を見てみよう。



999



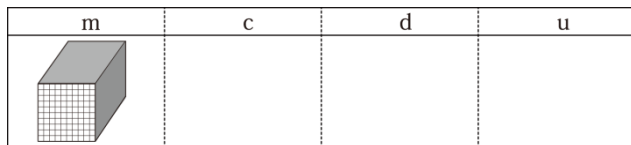
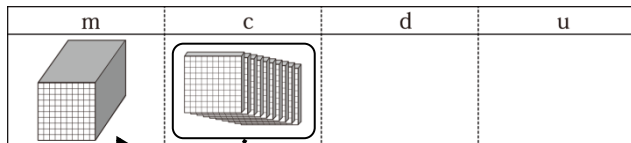
999の **u** のところの が1個増えるから、**d** にうつすのね。



d のところの が1本増えるから、**c** にうつすよ。



c の が10枚になるから、新しい場所 **m** をつくるよ。



1 0 0 0

mille

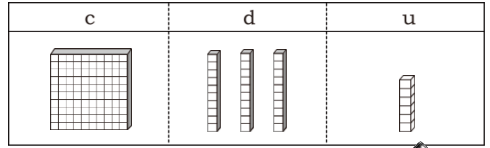
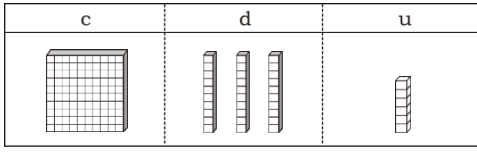
1000は **m** のところに が1個ある数ね。
u と **d** と **c** は0ね。




1000は mille と読むよ。
新しい場所 **m** は、「千の位」という名前だよ。

例題

にあてはまる数を書きましょう。



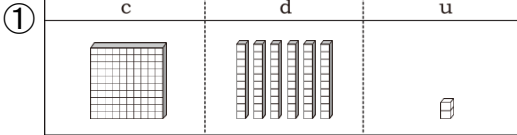
136

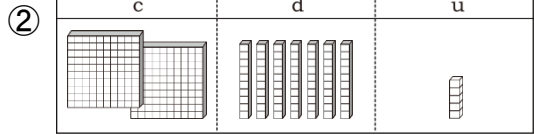


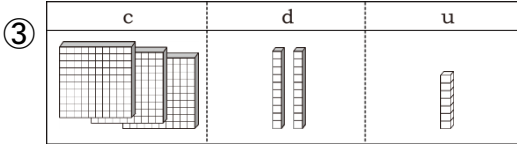
Bien!

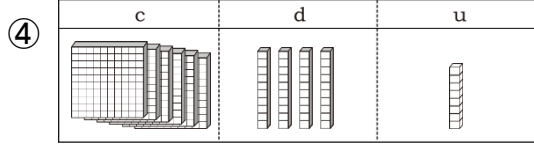
問題

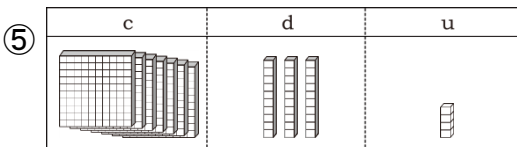
にあてはまる数を書きましょう。

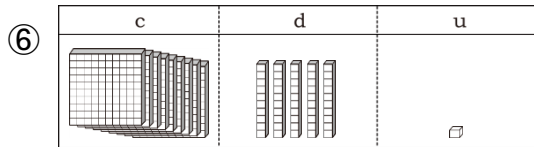




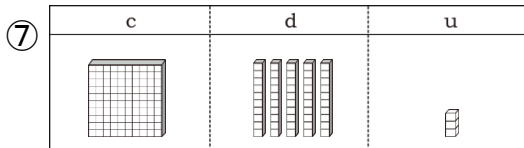


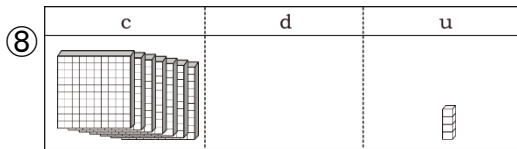


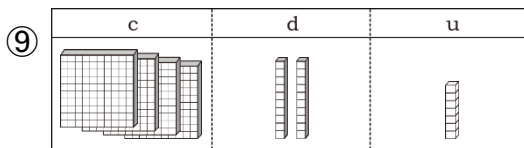


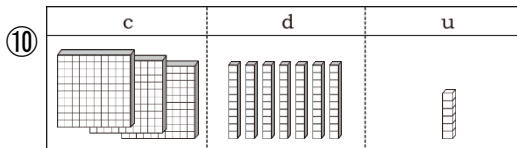


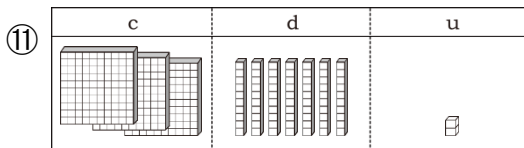
問題 にあてはまる数を書きましょう。

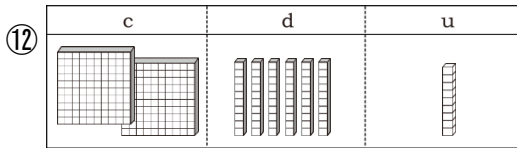


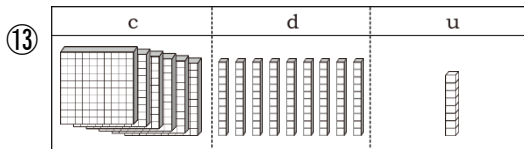


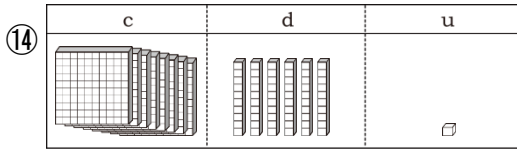


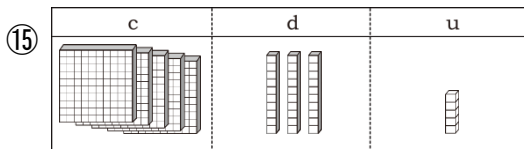


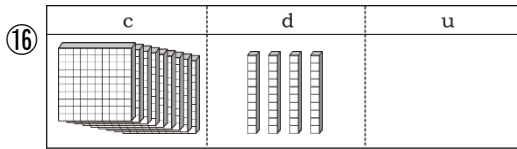




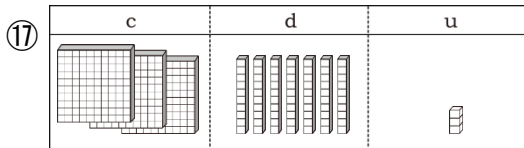


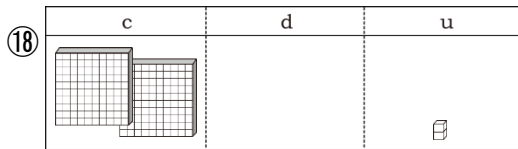


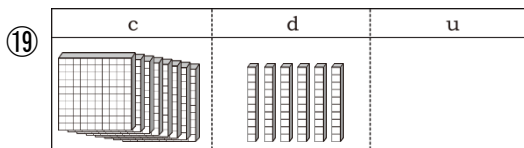


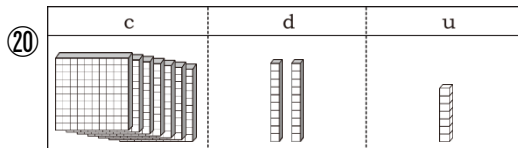


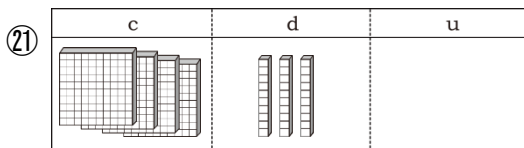
問題 にあてはまる数を書きましょう。

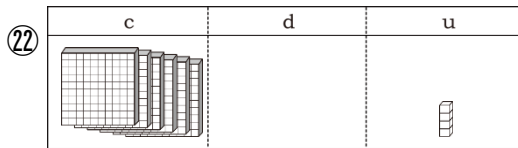


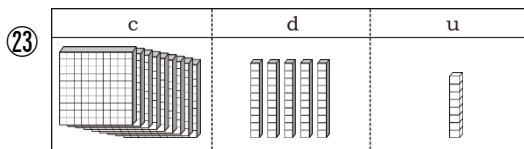


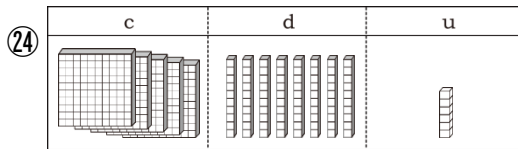


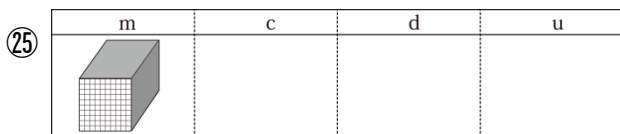












例題 数の読み方を に書きましょう。

100

cent



101

cent un



問題 数の読み方を に書きましょう。

200

201

402

603

304

535

876

927

368

439

問題 数の読み方を に書きましょう。

410

381

642

533

794

975

266

427

818

959

1000