

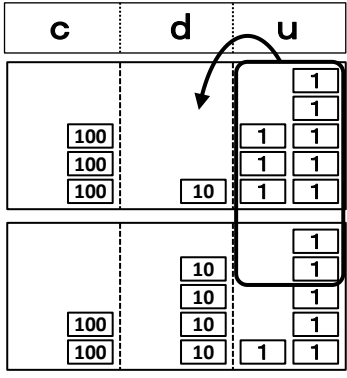
数の図の **u** は ●, **d** は ×, **c** は ○, **m** は □ のことです。



次の計算をしよう。はじめに、**u** のたし算をするよ。

$$318 + 246$$

c	d	u
3	1	8
+	2	4
	4	6



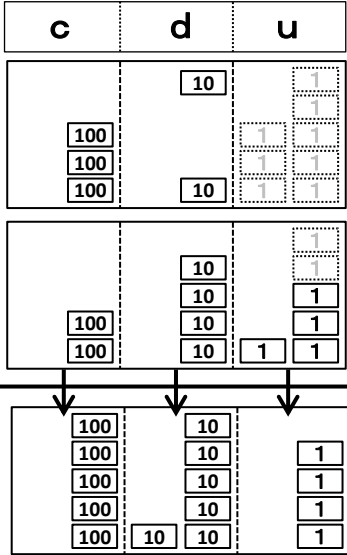
8 + 6 = 14
 になるね。
 10は、**d** に
 移すよ。
u は4だけだ
 ね。



d の数と **c** の数を計算しよう。

$$318 + 246$$

c	d	u
3	1	8
+	2	4
	4	6



d は
 1 + 1 + 4,
c は
 3 + 2で、
 答えは、
 564ね。





縦に書く計算でやってみよう。


$$318 + 246$$

	c	d	u
		1	
	3	1	8
+	2	4	6

			4

$$8 + 6 = 14$$

14の1は、上に小さく書いて、14の4は **u** の答えのところに書くだね。



d の数と **c** の数を計算しよう。

$$318 + 246$$

	c	d	u
		1	
	3	1	8
+	2	4	6

	5	6	4

$$1 + 1 + 4 = 6$$

$$3 + 2 = 5$$

c のところも、3と2をたすんだね。



Bien!

例題 次の計算をしましょう。

$$318 + 246$$

	3	1	8
+	2	4	6
<hr/>			



$$318 + 246$$

		1	
	3	1	8
+	2	4	6
<hr/>			
	5	6	4



Bien!

問題 次の計算をしましょう。

① $519 + 253$

	5	1	9
+	2	5	3
<hr/>			

② $127 + 436$

	1	2	7
+	4	3	6
<hr/>			

③ $453 + 342$

	4	5	3
+	3	4	2
<hr/>			

④ $243 + 615$

	2	4	3
+	6	1	5
<hr/>			

⑤ $526 + 324$

	5	2	6
+	3	2	4
<hr/>			

⑥ $257 + 314$

	2	5	7
+	3	1	4
<hr/>			

⑦ $129 + 630$

	1	2	9
+	6	3	0
<hr/>			

⑧ $308 + 651$

	3	0	8
+	6	5	1
<hr/>			

問題 次の計算をしましょう。

⑨ $372 + 415$

3	7	2
+	4	15

⑩ $166 + 513$

1	6	6
+	5	13

⑪ $651 + 323$

6	5	1
+	3	23

⑫ $531 + 265$

5	3	1
+	2	65

⑬ $465 + 407$

4	6	5
+	4	07

⑭ $553 + 138$

5	5	3
+	1	38

⑮ $627 + 336$

6	2	7
+	3	36

⑯ $469 + 524$

4	6	9
+	5	24

⑰ $227 + 626$

2	2	7
+	6	26

⑱ $303 + 418$

3	0	3
+	4	18

⑲ $353 + 237$

3	5	3
+	2	37

⑳ $336 + 445$

3	3	6
+	4	45

例題 次の計算をしましょう。「+」も書きましょう。

$$318 + 246$$

c	d	u
---	---	---

+			

$$318 + 246$$

c	d	u
---	---	---

+	3	1	8
	2	4	6
	5	6	4



わすれ
ないで
!



Bien!

問題 次の計算をしましょう。「+」も書きましょう。

① $517 + 364$

c	d	u
---	---	---

+			

② $478 + 216$

c	d	u
---	---	---

+			

③ $204 + 638$

c	d	u
---	---	---

+			

④ $340 + 529$

c	d	u
---	---	---

+			

⑤ $232 + 464$

c	d	u
---	---	---

+			

⑥ $304 + 503$

c	d	u
---	---	---

+			

問題 次の計算をしましょう。「+」も書きましょう。

⑦ $316 + 442$

	c	d	u
+			

⑧ $684 + 115$

	c	d	u
+			

⑨ $615 + 182$

	c	d	u
+			

⑩ $314 + 236$

	c	d	u
+			

⑪ $389 + 408$

	c	d	u
+			

⑫ $123 + 749$

	c	d	u
+			

⑬ $228 + 536$

	c	d	u
+			

⑭ $379 + 318$

	c	d	u
+			

⑮ $358 + 425$

	c	d	u
+			

例題 次の計算をしましょう。「+」や線も書きましょう。

$$318 + 246$$

c	d	u
---	---	---

$$318 + 246$$

c	d	u
---	---	---

	1	
3	1	8
+	2	4
	6	6
5	6	4



わすれ
ないで
!



Bien!

問題 次の計算をしましょう。「+」や線も書きましょう。

① $125 + 767$

c	d	u
---	---	---

② $133 + 629$

c	d	u
---	---	---

③ $458 + 423$

c	d	u
---	---	---

④ $127 + 765$

c	d	u
---	---	---

⑤ $534 + 128$

c	d	u
---	---	---

⑥ $526 + 325$

c	d	u
---	---	---

問題 次の計算をしましょう。「+」や線も書きましょう。

⑦ $427 + 432$

c	d	u

⑧ $516 + 142$

c	d	u

⑨ $206 + 402$

c	d	u

⑩ $421 + 509$

c	d	u

⑪ $238 + 653$

c	d	u

⑫ $247 + 537$

c	d	u

⑬ $326 + 354$

c	d	u

⑭ $225 + 327$

c	d	u

⑮ $567 + 126$

c	d	u