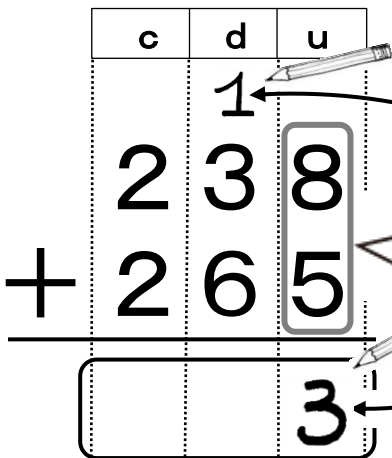





次の計算をしよう。

$$238 + 265$$



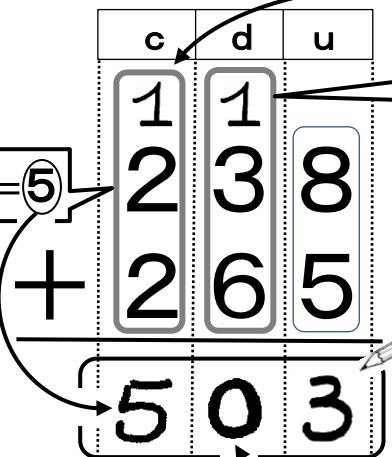
13の1は、上に小さく書いて、13の3は **u** の答えのところに書くんだね。

$$8 + 5 = 13$$



d の数と **c** の数を計算しよう。

$$238 + 265$$



d のところも、10になるから、**c** に移すよ。

$$1 + 3 + 6 = 10$$

$$1 + 2 + 2 = 5$$



c も、3つの数のたし算になったわね。

例題 次の計算をしましょう。

$$238 + 265$$

	2	3	8
+	2	6	5
<hr/>			



$$238 + 265$$

	1	1	
	2	3	8
+	2	6	5
<hr/>			
	5	0	3



Bien!

問題 次の計算をしましょう。

① $379 + 324$

	3	7	9
+	3	2	4
<hr/>			

② $269 + 535$

	2	6	9
+	5	3	5
<hr/>			

③ $455 + 147$

	4	5	5
+	1	4	7
<hr/>			

④ $325 + 476$

	3	2	5
+	4	7	6
<hr/>			

⑤ $546 + 257$

	5	4	6
+	2	5	7
<hr/>			

⑥ $483 + 18$

	4	8	3
+		1	8
<hr/>			

⑦ $536 + 65$

	5	3	6
+		6	5
<hr/>			

⑧ $295 + 5$

	2	9	5
+			5
<hr/>			

問題 次の計算をしましょう。

⑨ $412 + 189$

4	1	2
+	1	89

⑩ $146 + 354$

1	4	6
+	3	54

⑪ $428 + 273$

4	2	8
+	2	73

⑫ $335 + 265$

3	3	5
+	2	65

⑬ $253 + 349$

2	5	3
+	3	49

⑭ $365 + 138$

3	6	5
+	1	38

⑮ $287 + 215$

2	8	7
+	2	15

⑯ $408 + 295$

4	0	8
+	2	95

⑰ $272 + 29$

2	7	2
+		29

⑱ $364 + 38$

3	6	4
+		38

⑲ $353 + 49$

3	5	3
+		49

⑳ $594 + 7$

5	9	4
+		7

例題 次の計算をしましょう。「+」も書きましょう。

$$238 + 265$$

c	d	u
---	---	---

+			

$$238 + 265$$

c	d	u
---	---	---

+	1 2 2	1 3 6	8 5 3
	5	0	3



わすれ
ないで
!



Bien!

問題 次の計算をしましょう。「+」も書きましょう。

① $137 + 364$

c	d	u
---	---	---

+			

② $643 + 158$

c	d	u
---	---	---

+			

③ $214 + 289$

c	d	u
---	---	---

+			

④ $284 + 19$

c	d	u
---	---	---

+			

⑤ $232 + 69$

c	d	u
---	---	---

+			

⑥ $395 + 8$

c	d	u
---	---	---

+			

問題 次の計算をしましょう。「+」も書きましょう。

⑦ $674 + 228$

	c	d	u
+			

⑧ $784 + 119$

	c	d	u
+			

⑨ $607 + 197$

	c	d	u
+			

⑩ $538 + 263$

	c	d	u
+			

⑪ $393 + 409$

	c	d	u
+			

⑫ $353 + 49$

	c	d	u
+			

⑬ $248 + 57$

	c	d	u
+			

⑭ $379 + 26$

	c	d	u
+			

⑮ $594 + 8$

	c	d	u
+			

例題 次の計算をしましょう。「+」や線も書きましょう。

$$238 + 265$$

c	d	u
---	---	---

$$238 + 265$$

c	d	u
---	---	---

	1	1	
	2	3	8
+	2	6	5
	5	0	3



わすれ
ないで
!



Bien!

問題 次の計算をしましょう。「+」や線も書きましょう。

① $155 + 348$

c	d	u
---	---	---

② $385 + 216$

c	d	u
---	---	---

③ $228 + 475$

c	d	u
---	---	---

④ $137 + 65$

c	d	u
---	---	---

⑤ $527 + 75$

c	d	u
---	---	---

⑥ $896 + 5$

c	d	u
---	---	---

問題 次の計算をしましょう。「+」や線も書きましょう。

⑦ $217 + 388$

c	d	u

⑧ $479 + 123$

c	d	u

⑨ $236 + 469$

c	d	u

⑩ $401 + 199$

c	d	u

⑪ $248 + 653$

c	d	u

⑫ $267 + 537$

c	d	u

⑬ $386 + 14$

c	d	u

⑭ $222 + 79$

c	d	u

⑮ $597 + 8$

c	d	u